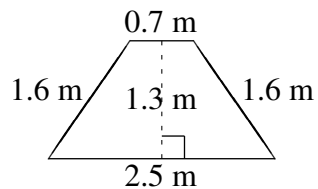
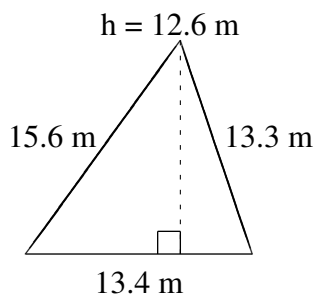
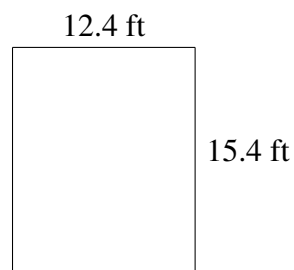
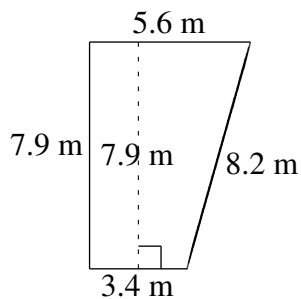
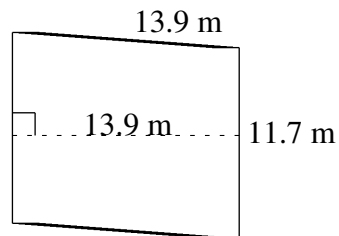
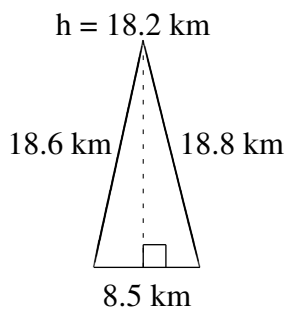


Área y Perímetro de Formas Varias (F)

Halle el área y el perímetro de cada figura.



Área y Perímetro de Formas Varias (F) Respuestas

Halle el área y el perímetro de cada figura.

