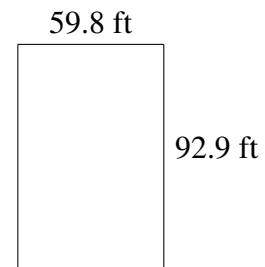
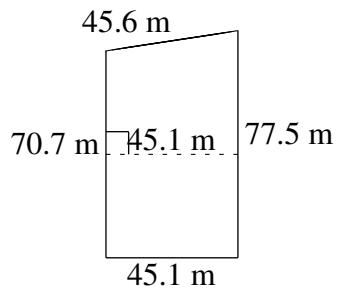
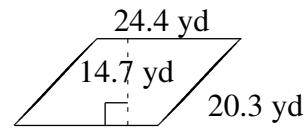
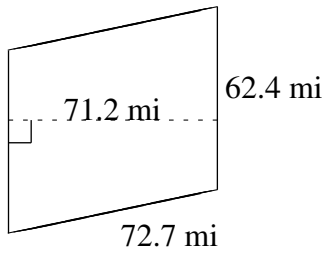
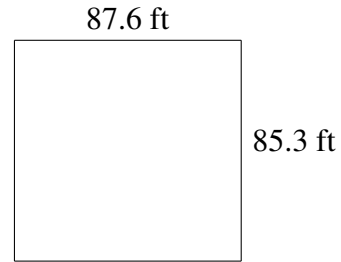
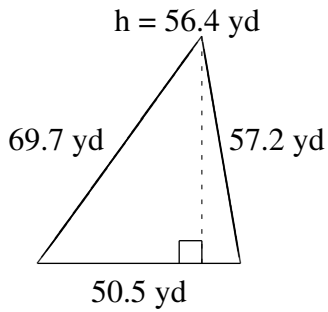


# Área y Perímetro de Formas Varias (B)

Halle el área y el perímetro de cada figura.



# Área y Perímetro de Formas Varias (B) Respuestas

Halle el área y el perímetro de cada figura.

