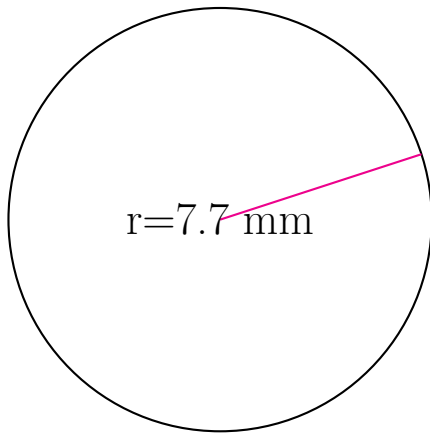


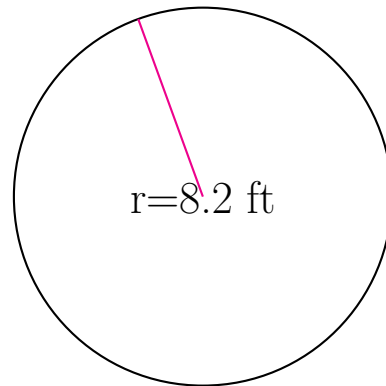
## Área y Circunferencia de Círculos (E)

Calcule el área y la circunferencia de cada círculo.



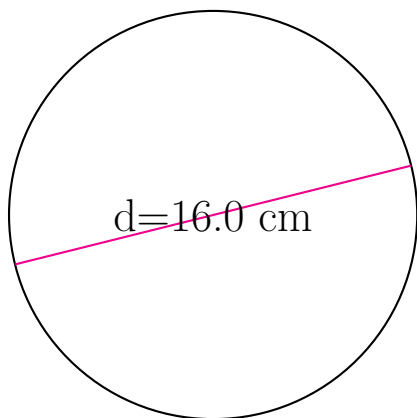
circunferencia = \_\_\_\_\_

área = \_\_\_\_\_



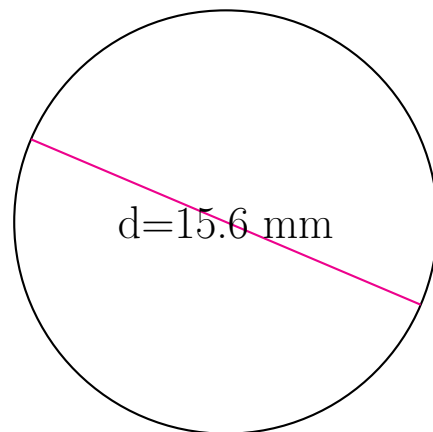
circunferencia = \_\_\_\_\_

área = \_\_\_\_\_



circunferencia = \_\_\_\_\_

área = \_\_\_\_\_

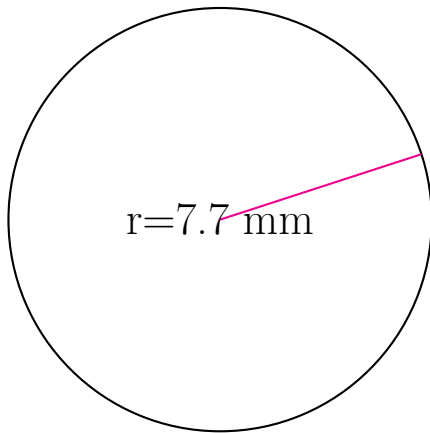


circunferencia = \_\_\_\_\_

área = \_\_\_\_\_

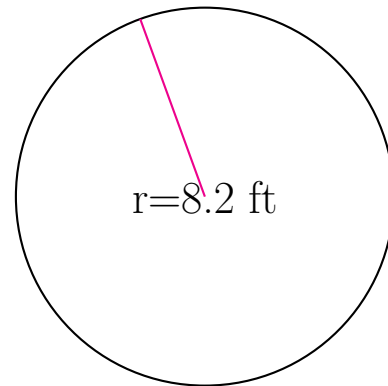
## Área y Circunferencia de Círculos (E) Respuestas

Calcule el área y la circunferencia de cada círculo.



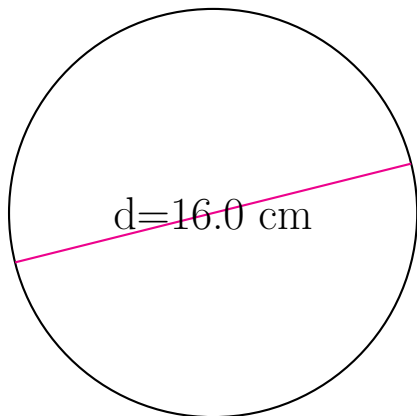
circunferencia = 48.381 mm

área = 186.265 mm<sup>2</sup>



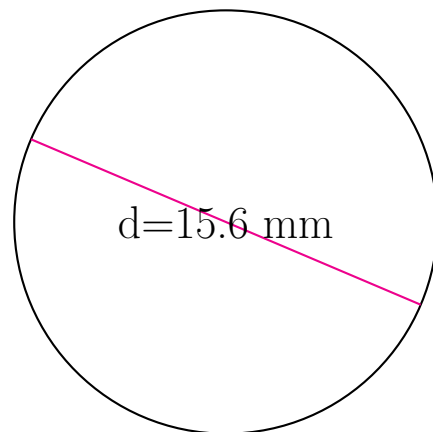
circunferencia = 51.522 ft

área = 211.241 ft<sup>2</sup>



circunferencia = 50.265 cm

área = 201.062 cm<sup>2</sup>



circunferencia = 49.009 mm

área = 191.134 mm<sup>2</sup>