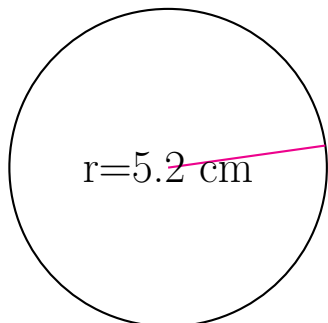


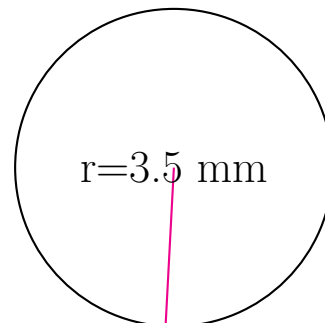
## Área y Circunferencia de Círculos (G)

Calcule el área y la circunferencia de cada círculo.



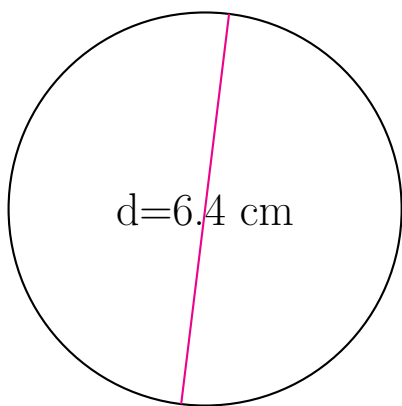
circunferencia = \_\_\_\_\_

área = \_\_\_\_\_



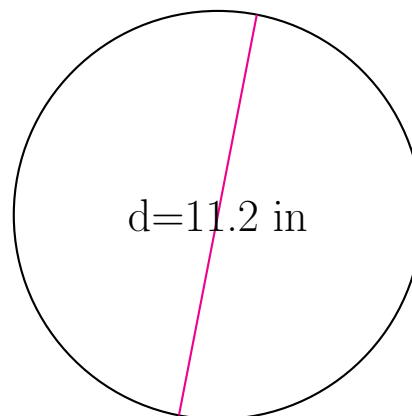
circunferencia = \_\_\_\_\_

área = \_\_\_\_\_



circunferencia = \_\_\_\_\_

área = \_\_\_\_\_

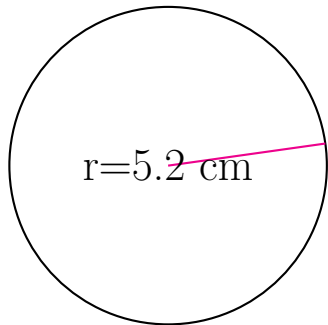


circunferencia = \_\_\_\_\_

área = \_\_\_\_\_

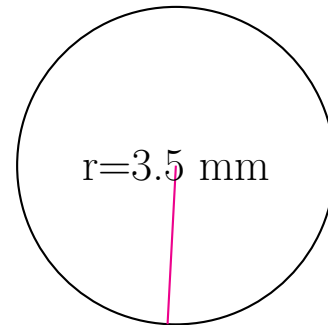
## Área y Circunferencia de Círculos (G) Respuestas

Calcule el área y la circunferencia de cada círculo.



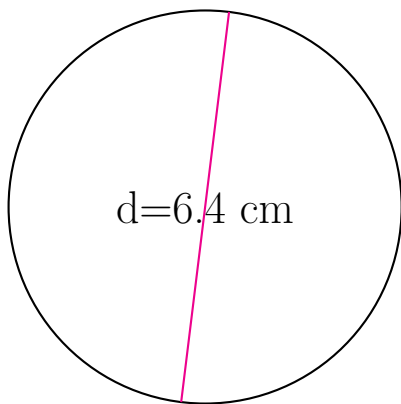
circunferencia = 32.673 cm

área = 84.949 cm<sup>2</sup>



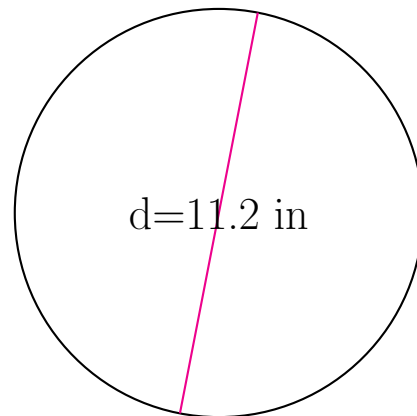
circunferencia = 21.991 mm

área = 38.485 mm<sup>2</sup>



circunferencia = 20.106 cm

área = 32.17 cm<sup>2</sup>



circunferencia = 35.186 in

área = 98.52 in<sup>2</sup>