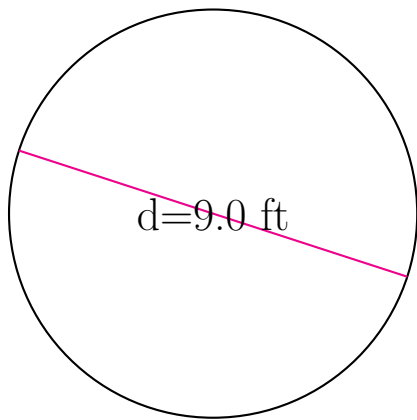


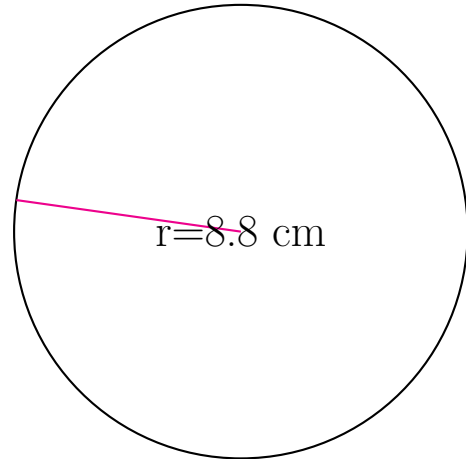
## Área y Circunferencia de Círculos (J)

Calcule el área y la circunferencia de cada círculo.



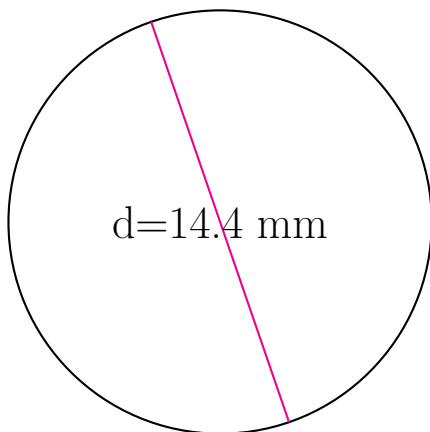
circunferencia = \_\_\_\_\_

área = \_\_\_\_\_



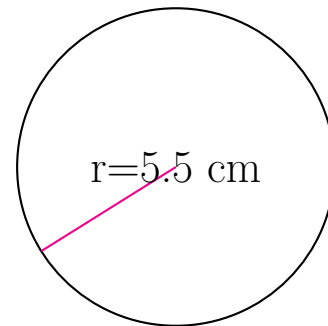
circunferencia = \_\_\_\_\_

área = \_\_\_\_\_



circunferencia = \_\_\_\_\_

área = \_\_\_\_\_

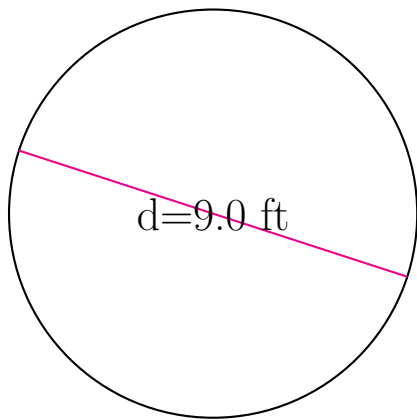


circunferencia = \_\_\_\_\_

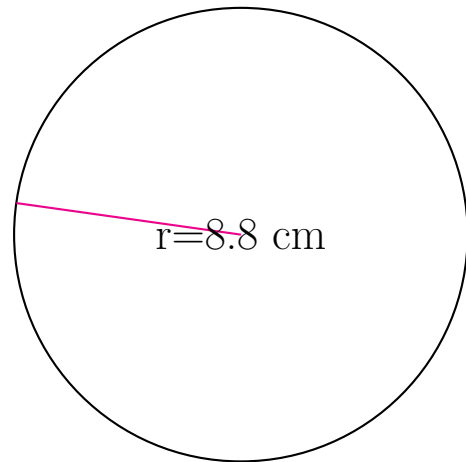
área = \_\_\_\_\_

## Área y Circunferencia de Círculos (J) Respuestas

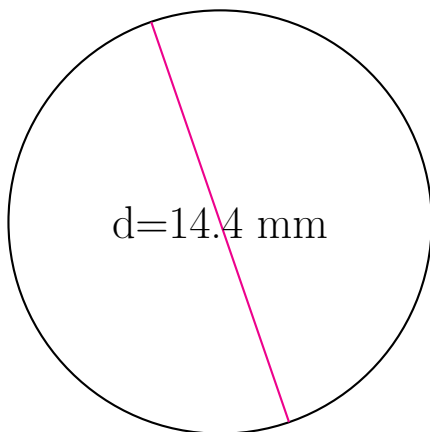
Calcule el área y la circunferencia de cada círculo.



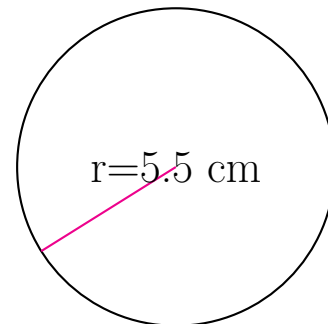
$$\begin{aligned} \text{circunferencia} &= \underline{28.274 \text{ ft}} \\ \text{área} &= \underline{63.617 \text{ ft}^2} \end{aligned}$$



$$\begin{aligned} \text{circunferencia} &= \underline{55.292 \text{ cm}} \\ \text{área} &= \underline{243.285 \text{ cm}^2} \end{aligned}$$



$$\begin{aligned} \text{circunferencia} &= \underline{45.239 \text{ mm}} \\ \text{área} &= \underline{162.86 \text{ mm}^2} \end{aligned}$$



$$\begin{aligned} \text{circunferencia} &= \underline{34.558 \text{ cm}} \\ \text{área} &= \underline{95.033 \text{ cm}^2} \end{aligned}$$