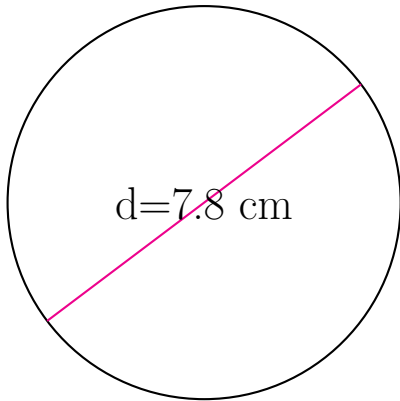


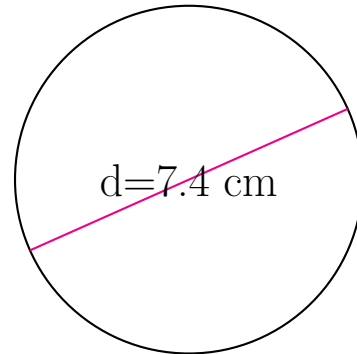
Área y Circunferencia de Círculos (C)

Calcule el área y la circunferencia de cada círculo.



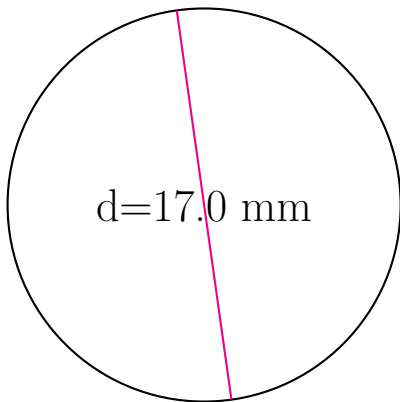
circunferencia = _____

área = _____



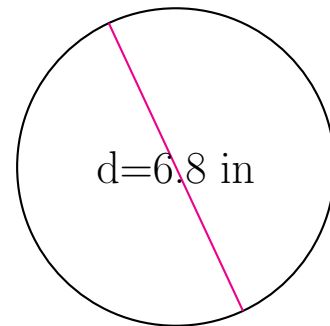
circunferencia = _____

área = _____



circunferencia = _____

área = _____

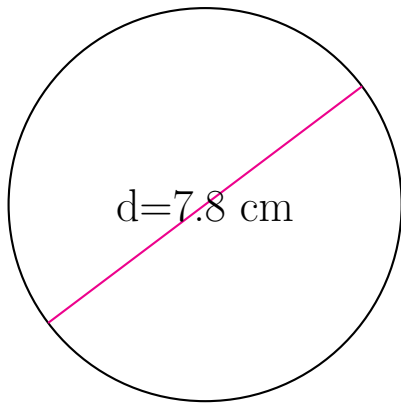


circunferencia = _____

área = _____

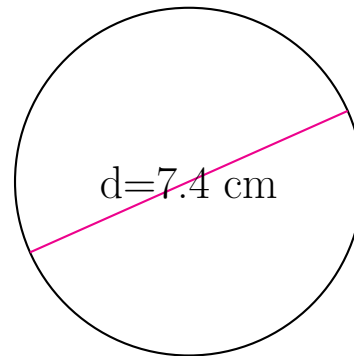
Área y Circunferencia de Círculos (C) Respuestas

Calcule el área y la circunferencia de cada círculo.



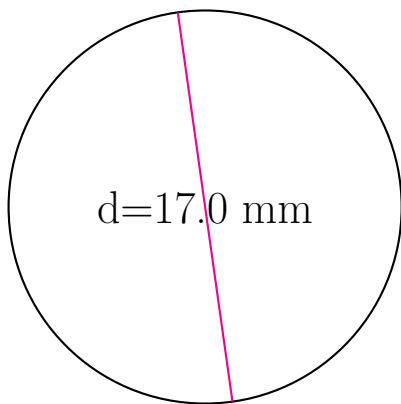
circunferencia = 24.504 cm

área = 47.784 cm²



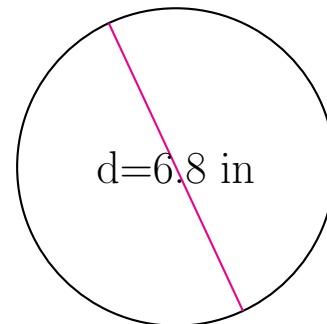
circunferencia = 23.248 cm

área = 43.008 cm²



circunferencia = 53.407 mm

área = 226.98 mm²



circunferencia = 21.363 in

área = 36.317 in²