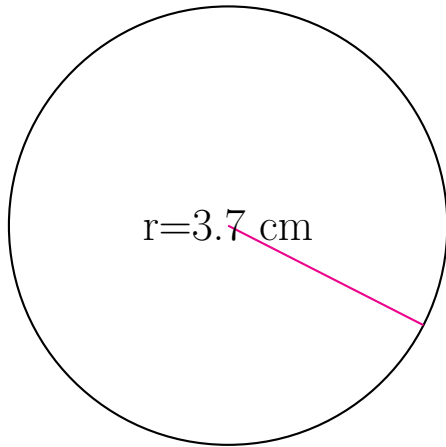


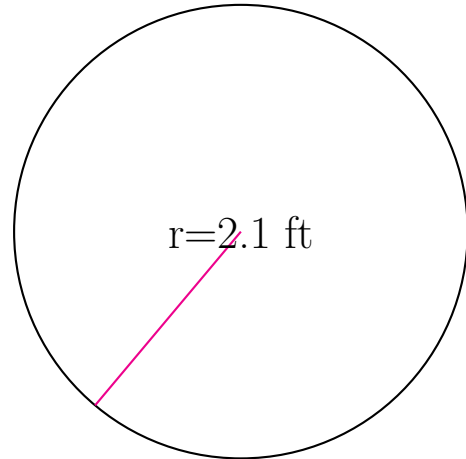
Área y Circunferencia de Círculos (C)

Calcule el área y la circunferencia de cada círculo.



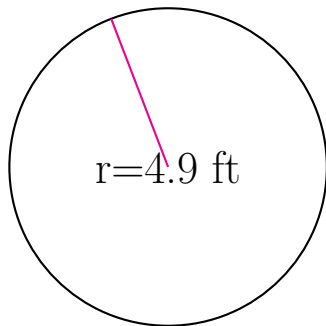
circunferencia = _____

área = _____



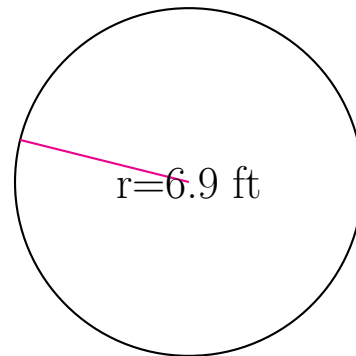
circunferencia = _____

área = _____



circunferencia = _____

área = _____

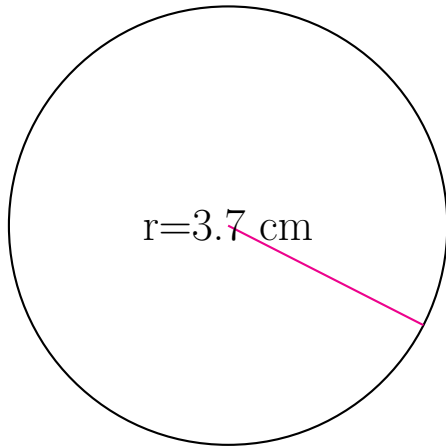


circunferencia = _____

área = _____

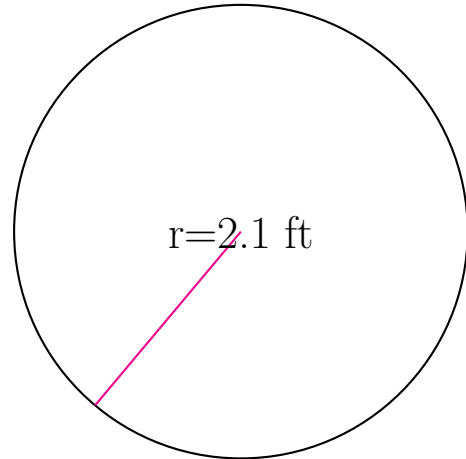
Área y Circunferencia de Círculos (C) Respuestas

Calcule el área y la circunferencia de cada círculo.



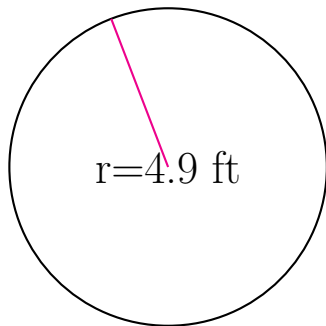
circunferencia = 23.248 cm

área = 43.008 cm²



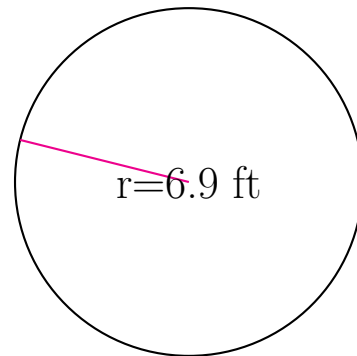
circunferencia = 13.195 ft

área = 13.854 ft²



circunferencia = 30.788 ft

área = 75.43 ft²



circunferencia = 43.354 ft

área = 149.571 ft²