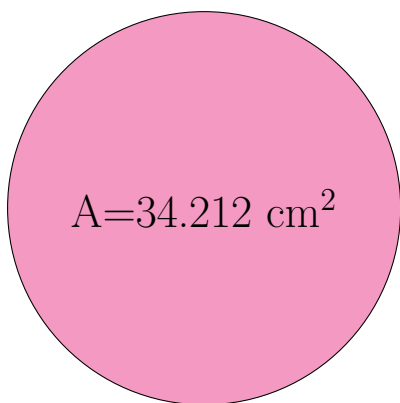
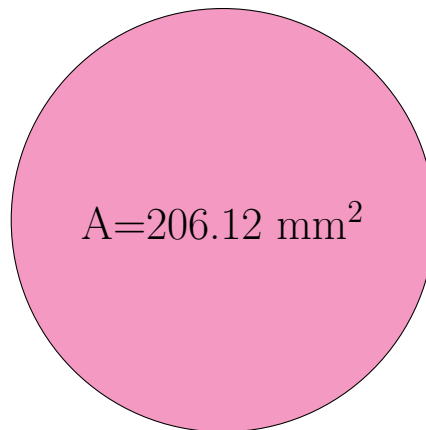


Radio y Diámetro de Círculos (E)

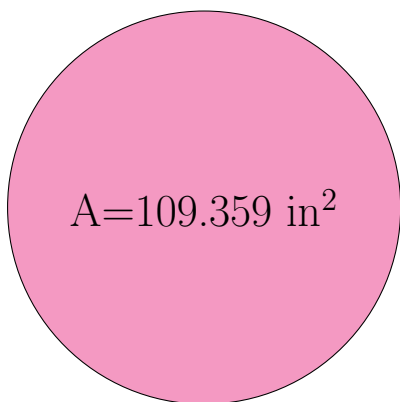
Calcule el radio y el diámetro de cada círculo.



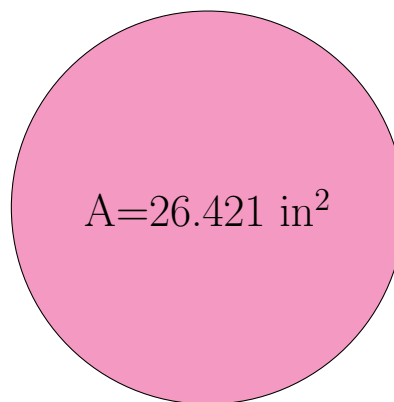
radio = _____
diámetro = _____



radio = _____
diámetro = _____



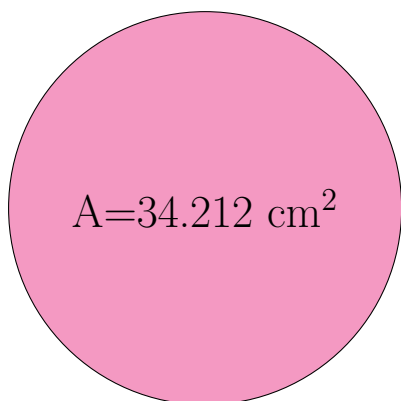
radio = _____
diámetro = _____



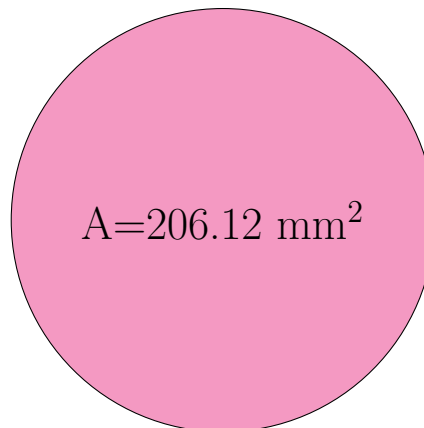
radio = _____
diámetro = _____

Radio y Diámetro de Círculos (E) Respuestas

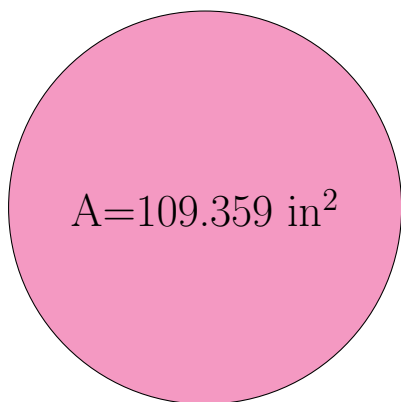
Calcule el radio y el diámetro de cada círculo.



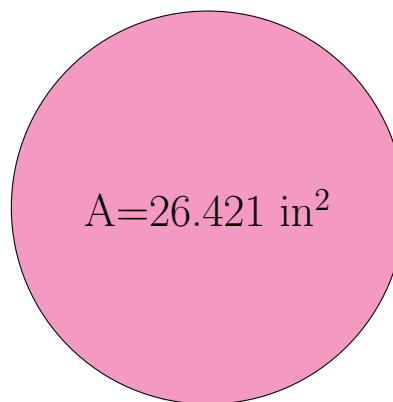
radio = 3.3 cm
diámetro = 6.6 cm



radio = 8.1 mm
diámetro = 16.2 mm



radio = 5.9 in
diámetro = 11.8 in



radio = 2.9 in
diámetro = 5.8 in