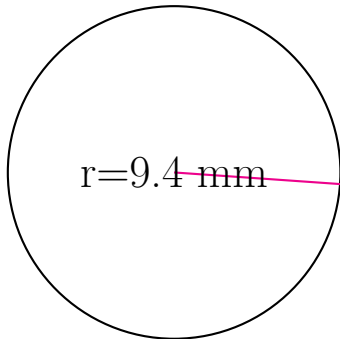
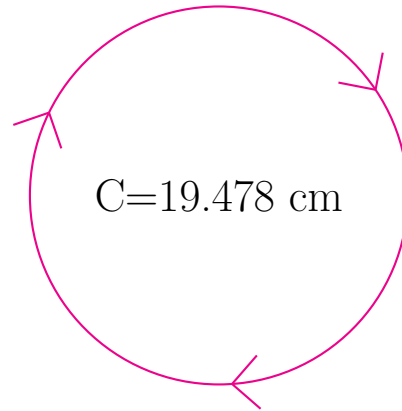


## Medidas de Círculos (B)

Calcule las medidas de cada círculo usando las medidas dadas.



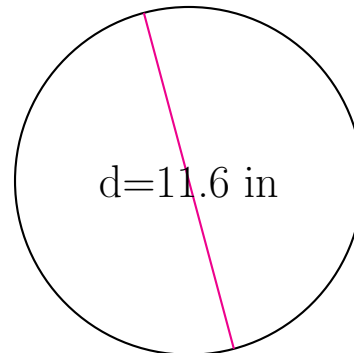
radio = 9.4 mm  
diámetro = \_\_\_\_\_  
circunferencia = \_\_\_\_\_  
área = \_\_\_\_\_



radio = \_\_\_\_\_  
diámetro = \_\_\_\_\_  
circunferencia = 19.478 cm  
área = \_\_\_\_\_



radio = \_\_\_\_\_  
diámetro = \_\_\_\_\_  
circunferencia = \_\_\_\_\_  
área = 243.285 mm<sup>2</sup>



radio = \_\_\_\_\_  
diámetro = 11.6 in  
circunferencia = \_\_\_\_\_  
área = \_\_\_\_\_