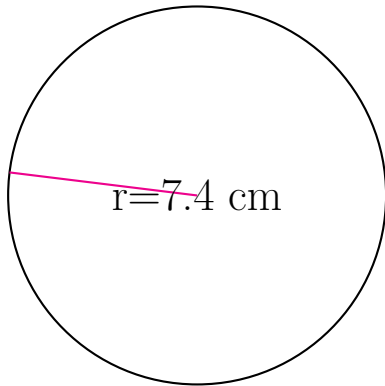
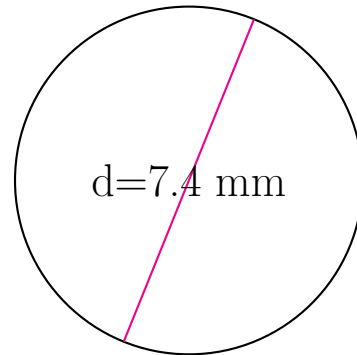


## Medidas de Círculos (D)

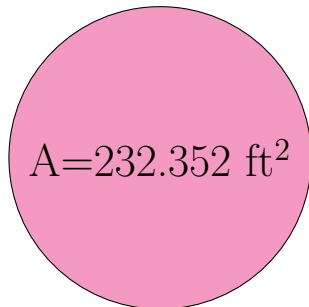
Calcule las medidas de cada círculo usando las medidas dadas.



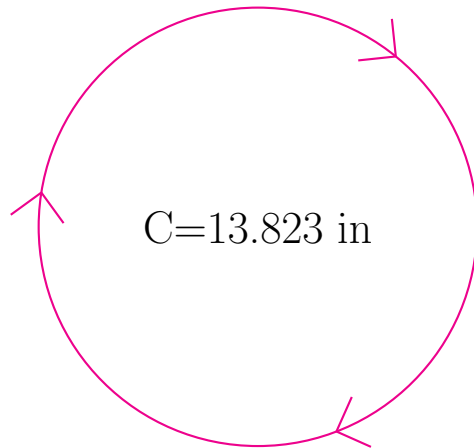
radio = 7.4 cm  
diámetro = \_\_\_\_\_  
circunferencia = \_\_\_\_\_  
área = \_\_\_\_\_



radio = \_\_\_\_\_  
diámetro = 7.4 mm  
circunferencia = \_\_\_\_\_  
área = \_\_\_\_\_



radio = \_\_\_\_\_  
diámetro = \_\_\_\_\_  
circunferencia = \_\_\_\_\_  
área = 232.352 ft<sup>2</sup>



radio = \_\_\_\_\_  
diámetro = \_\_\_\_\_  
circunferencia = 13.823 in  
área = \_\_\_\_\_