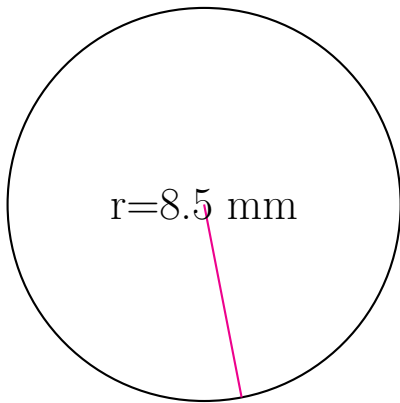
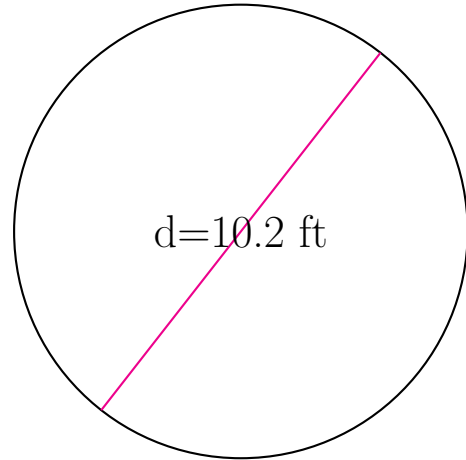


Medidas de Círculos (E)

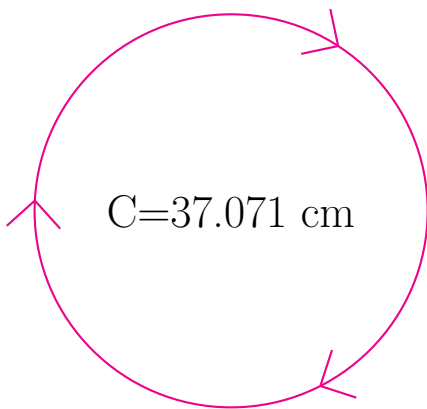
Calcule las medidas de cada círculo usando las medidas dadas.



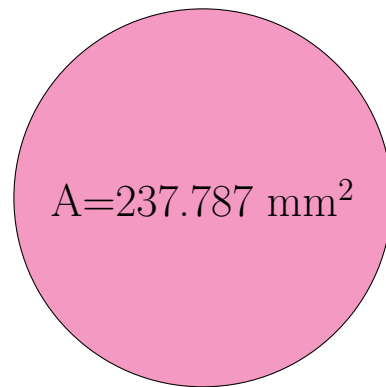
radio = 8.5 mm
diámetro = _____
circunferencia = _____
área = _____



radio = _____
diámetro = 10.2 ft
circunferencia = _____
área = _____



radio = _____
diámetro = _____
circunferencia = 37.071 cm
área = _____



radio = _____
diámetro = _____
circunferencia = _____
área = 237.787 mm²