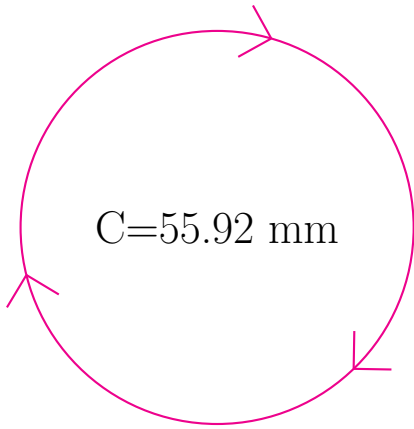
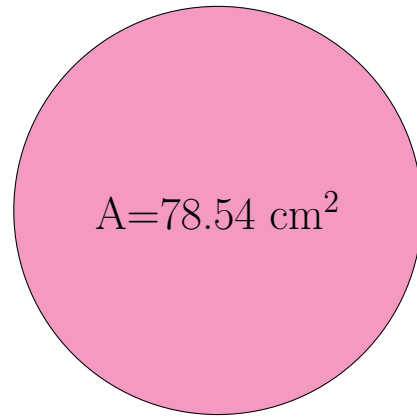


Medidas de Círculos (F)

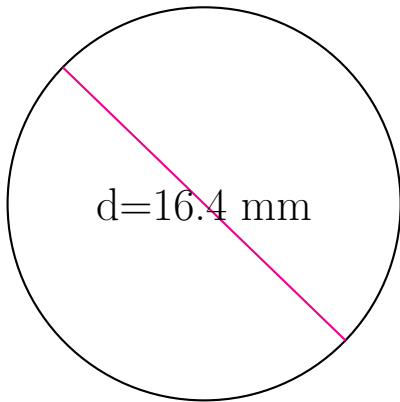
Calcule las medidas de cada círculo usando las medidas dadas.



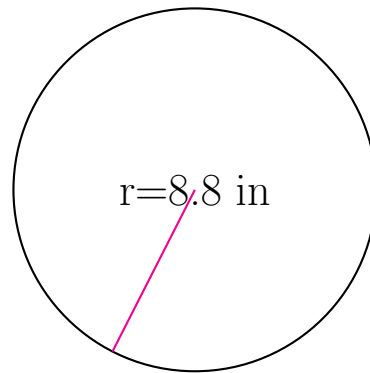
radio = _____
diámetro = _____
circunferencia = 55.92 mm
área = _____



radio = _____
diámetro = _____
circunferencia = _____
área = 78.54 cm²



radio = _____
diámetro = 16.4 mm
circunferencia = _____
área = _____



radio = 8.8 in
diámetro = _____
circunferencia = _____
área = _____