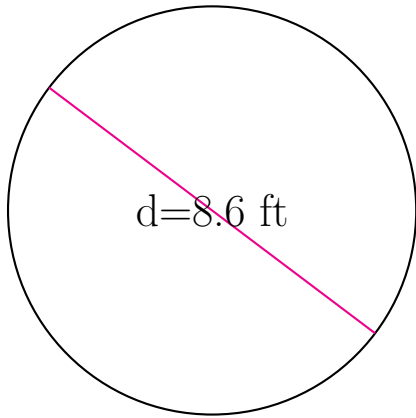
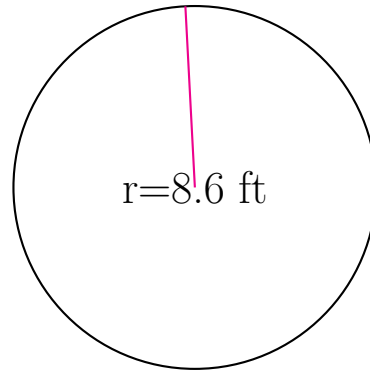


Medidas de Círculos (G)

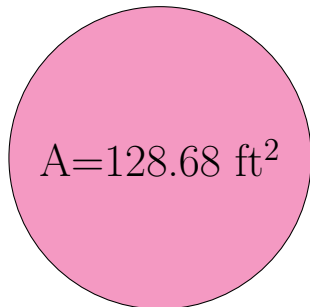
Calcule las medidas de cada círculo usando las medidas dadas.



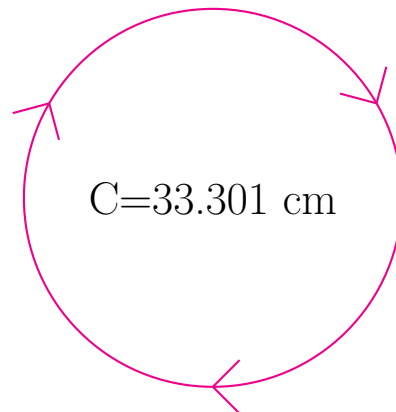
radio = _____
diámetro = 8.6 ft
circunferencia = _____
área = _____



radio = 8.6 ft
diámetro = _____
circunferencia = _____
área = _____



radio = _____
diámetro = _____
circunferencia = _____
área = 128.68 ft²



radio = _____
diámetro = _____
circunferencia = 33.301 cm
área = _____