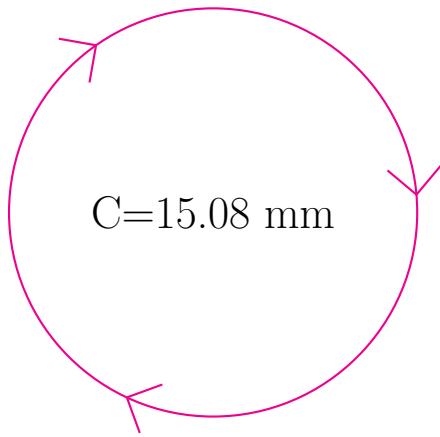
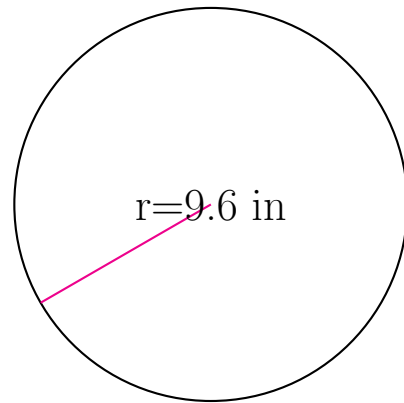


## Medidas de Círculos (H)

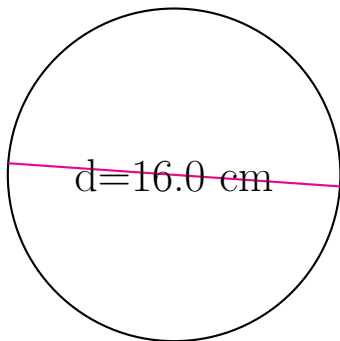
Calcule las medidas de cada círculo usando las medidas dadas.



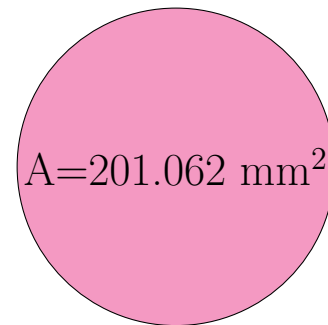
radio = \_\_\_\_\_  
diámetro = \_\_\_\_\_  
circunferencia = 15.08 mm  
área = \_\_\_\_\_



radio = 9.6 in  
diámetro = \_\_\_\_\_  
circunferencia = \_\_\_\_\_  
área = \_\_\_\_\_



radio = \_\_\_\_\_  
diámetro = 16.0 cm  
circunferencia = \_\_\_\_\_  
área = \_\_\_\_\_



radio = \_\_\_\_\_  
diámetro = \_\_\_\_\_  
circunferencia = \_\_\_\_\_  
área = 201.062 mm<sup>2</sup>