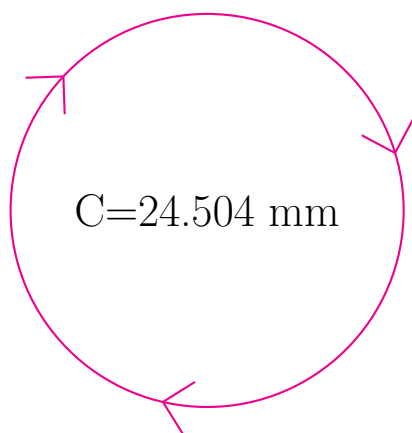


Medidas de Círculos (J)

Calcule las medidas de cada círculo usando las medidas dadas.

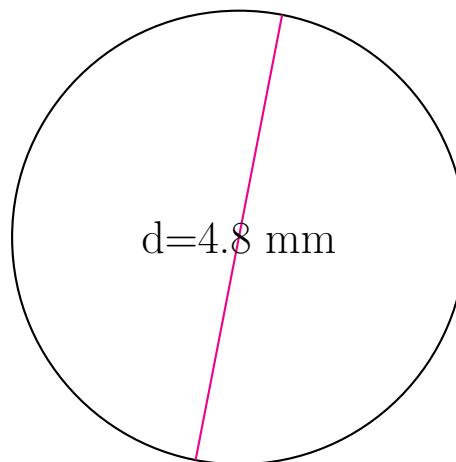


radio = _____

diámetro = _____

circunferencia = 24.504 mm

área = _____

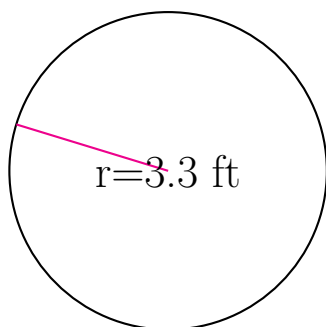


radio = _____

diámetro = 4.8 mm

circunferencia = _____

área = _____

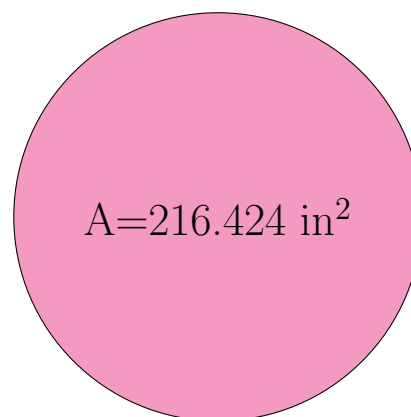


radio = 3.3 ft

diámetro = _____

circunferencia = _____

área = _____



radio = _____

diámetro = _____

circunferencia = _____

área = 216.424 in²