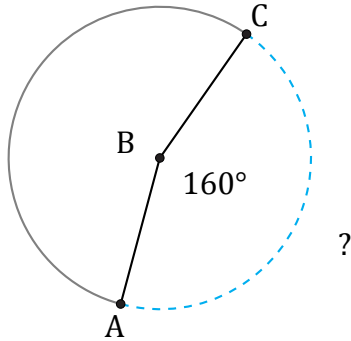


# Amplitud y Longitud de Arcos (A)

Nombre: \_\_\_\_\_

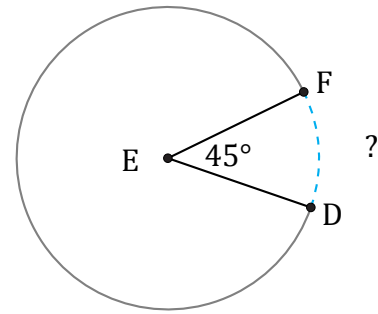
Fecha: \_\_\_\_\_

Calcule la amplitud angular o la longitud de cada arco.



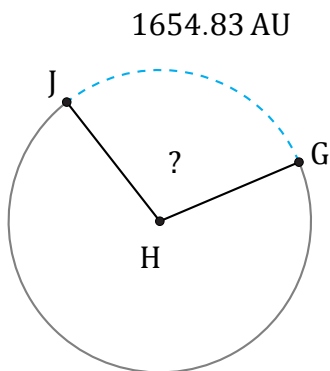
Diámetro = 1436 in

$\widehat{AC} =$



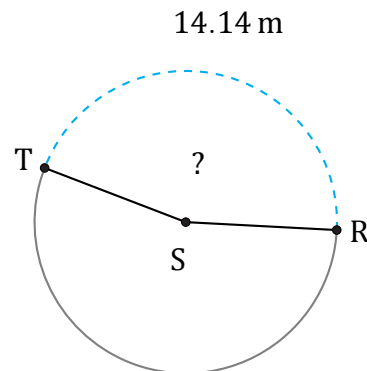
Diámetro = 166 mi

$\widehat{DF} =$



Diámetro = 1806 AU

$\angle GHJ =$



Diámetro = 10 m

$\angle RST =$