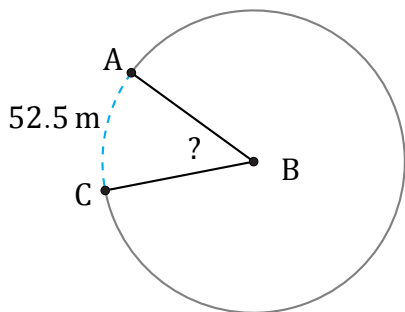


Amplitud y Longitud de Arcos (B)

Nombre: _____

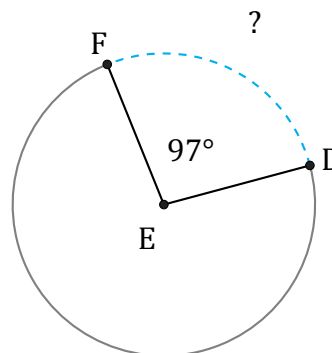
Fecha: _____

Calcule la amplitud angular o la longitud de cada arco.



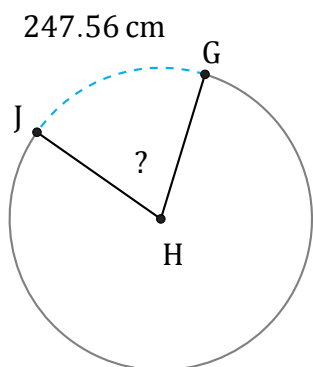
Diámetro = 128 m

$\angle ABC =$



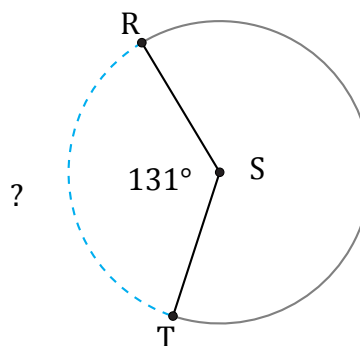
Diámetro = 860 mm

$\widehat{DF} =$



Diámetro = 394 cm

$\angle GHJ =$



Diámetro = 12 cm

$\widehat{RT} =$