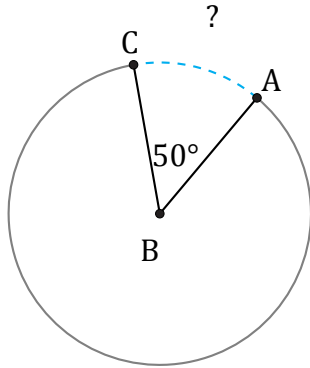


Amplitud y Longitud de Arcos (D)

Nombre: _____

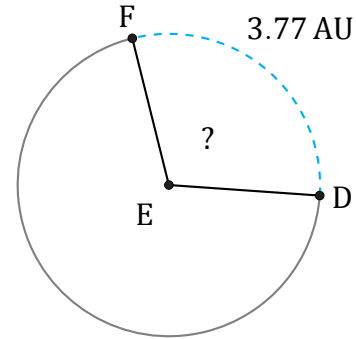
Fecha: _____

Calcule la amplitud angular o la longitud de cada arco.



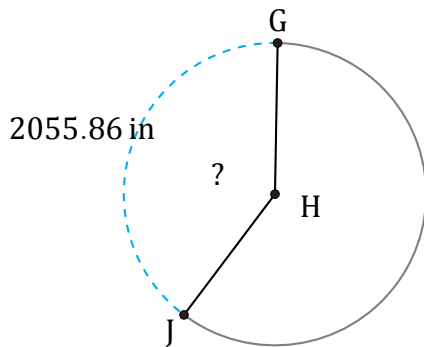
Diámetro = 10 ft

$\widehat{AC} =$



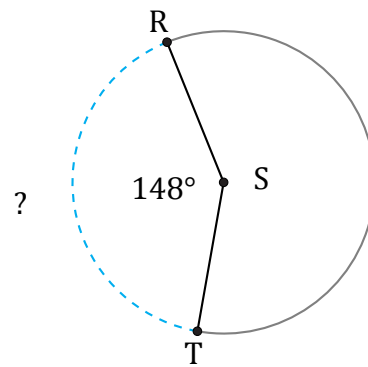
Diámetro = 4 AU

$\angle DEF =$



Diámetro = 1636 in

$\angle GHJ =$



Diámetro = 6 AU

$\widehat{RT} =$