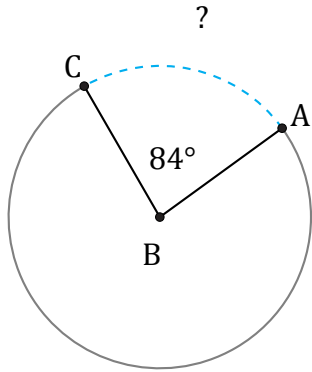


Amplitud y Longitud de Arcos (J)

Nombre: _____

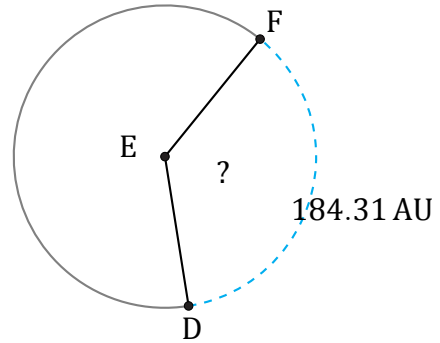
Fecha: _____

Calcule la amplitud angular o la longitud de cada arco.



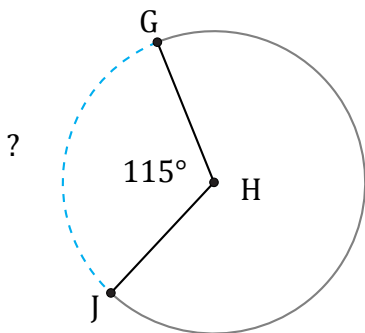
Diámetro = 58 ft

$\widehat{AC} =$



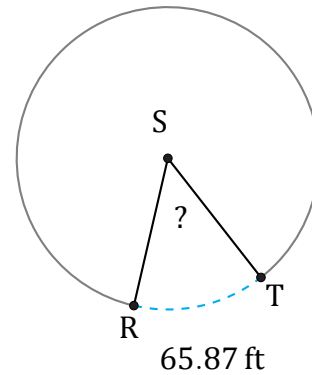
Diámetro = 160 AU

$\angle DEF =$



Diámetro = 20 mi

$\widehat{GJ} =$



Diámetro = 148 ft

$\angle RST =$