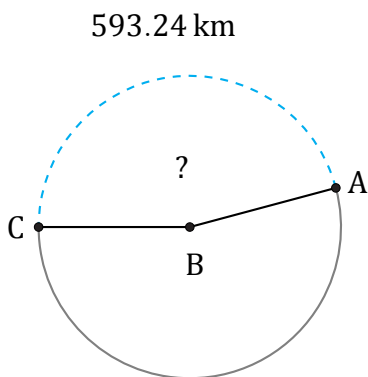


Amplitud y Longitud de Arcos (B)

Nombre: _____

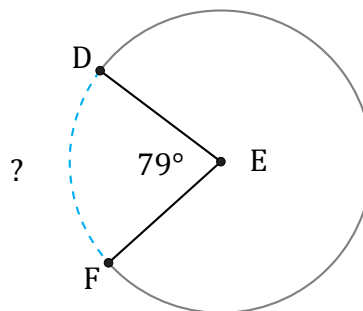
Fecha: _____

Calcule la amplitud angular o la longitud de cada arco.



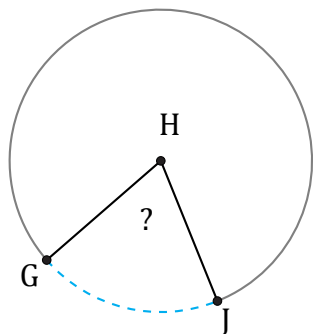
Diámetro = 412 km

$\angle ABC =$



Circunferencia = 5196.19 AU

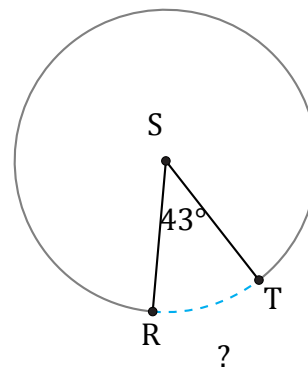
$\widehat{DF} =$



146.22 km

Radio = 118 km

$\angle GHJ =$



Diámetro = 12 AU

$\widehat{RT} =$