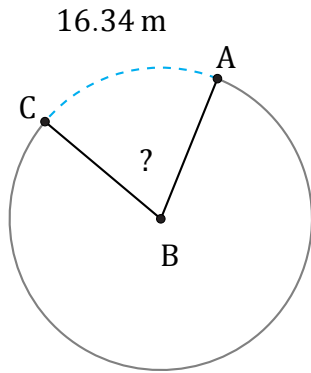


Amplitud y Longitud de Arcos (H)

Nombre: _____

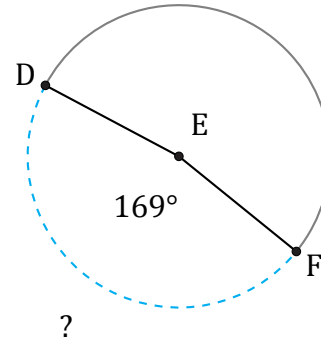
Fecha: _____

Calcule la amplitud angular o la longitud de cada arco.



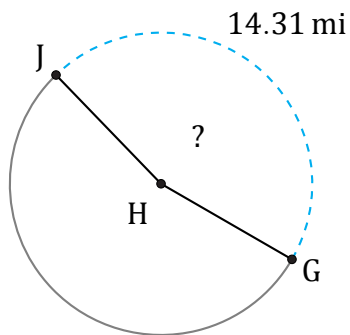
Diámetro = 26 m

$\angle ABC =$



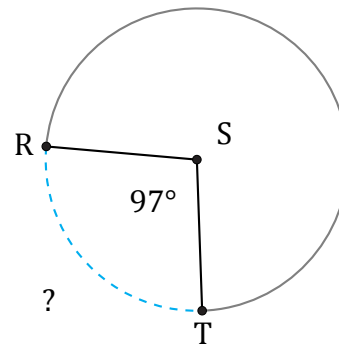
Radio = 550 mi

$\widehat{DF} =$



Diámetro = 10 mi

$\angle GHJ =$



Circunferencia = 213.63 in

$\widehat{RT} =$