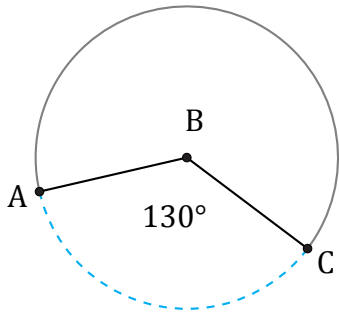


Longitud de Arcos (J)

Nombre: _____

Fecha: _____

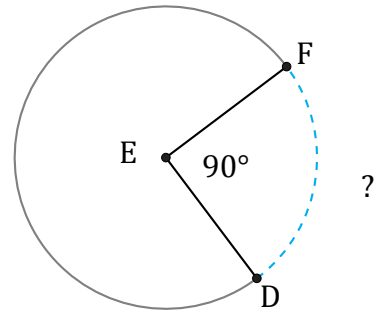
Calcule la longitud de cada arco.



?

Radio = 5 mi

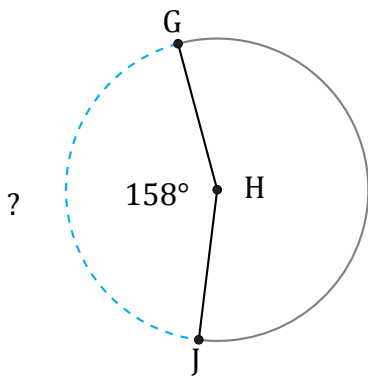
$\widehat{AC} =$



?

Diámetro = 1754 AU

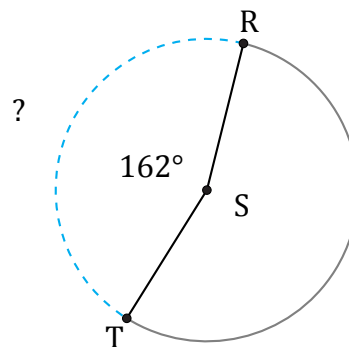
$\widehat{DF} =$



?

Diámetro = 16 ft

$\widehat{GJ} =$



?

Radio = 771 mm

$\widehat{RT} =$