

Medir Longitud (I)

Nombre: _____ Fecha: _____ Puntuación: _____

Midan la longitud de cada barra **hasta el milímetro más cercano**.

1.

Longitud de la barra:



2.

Longitud de la barra:



3.

Longitud de la barra:



4.

Longitud de la barra:




5.

Longitud de la barra:



6.

Longitud de la barra:



7.

Longitud de la barra:



8.

Longitud de la barra:




9.

Longitud de la barra:



10.

Longitud de la barra:



Medir Longitud (I) Respuestas


Nombre: _____ Fecha: _____ Puntuación: _____

Midan la longitud de cada barra **hasta el milímetro más cercano**.

1. Longitud de la barra: 150 mm



2. Longitud de la barra: 95 mm




3. Longitud de la barra: 71 mm



4. Longitud de la barra: 68 mm



5. Longitud de la barra: 103 mm



6. Longitud de la barra: 116 mm



7. Longitud de la barra: 55 mm



8. Longitud de la barra: 136 mm



9. Longitud de la barra: 87 mm



10. Longitud de la barra: 33 mm

