

Medir Longitud (I)


Nombre: _____ Fecha: _____ Puntuación: _____

Midan la longitud de cada barra **hasta el medio centímetro más cercano.**

1. Longitud de la barra:



2. Longitud de la barra:



3. Longitud de la barra:



4. Longitud de la barra:




5. Longitud de la barra:



6. Longitud de la barra:



7. Longitud de la barra:




8. Longitud de la barra:



9. Longitud de la barra:



10. Longitud de la barra:




Medir Longitud (I) Respuestas


Nombre: _____ Fecha: _____ Puntuación: _____

Midan la longitud de cada barra **hasta el medio centímetro más cercano**.

1. Longitud de la barra:



2. Longitud de la barra:




3. Longitud de la barra:



4. Longitud de la barra:




5. Longitud de la barra:



6. Longitud de la barra:



7. Longitud de la barra:



8. Longitud de la barra:



9. Longitud de la barra:



10. Longitud de la barra:

