

Medir Longitud (I)

Nombre: _____ Fecha: _____ Puntuación: _____

Midan la longitud de cada barra **hasta el centímetro más cercano**.


1.

Longitud de la barra:



2.

Longitud de la barra:




3.

Longitud de la barra:



4.

Longitud de la barra:




5.

Longitud de la barra:



6.

Longitud de la barra:



7.

Longitud de la barra:



8.

Longitud de la barra:



9.

Longitud de la barra:



10.

Longitud de la barra:



Medir Longitud (I) Respuestas


Nombre: _____ Fecha: _____ Puntuación: _____

Midan la longitud de cada barra **hasta el centímetro más cercano**.

1. Longitud de la barra:



2. Longitud de la barra:



3. Longitud de la barra:




4. Longitud de la barra:




5. Longitud de la barra:



6. Longitud de la barra:




7. Longitud de la barra:



8. Longitud de la barra:



9. Longitud de la barra:



10. Longitud de la barra:

