

Medir Longitud (A)

Nombre: _____ Fecha: _____ Puntuación: _____

Midan la longitud de cada barra **hasta el centímetro más cercano**.

1.

Longitud de la barra:



2.

Longitud de la barra:



3.

Longitud de la barra:



4.

Longitud de la barra:



5.

Longitud de la barra:



6.

Longitud de la barra:



7.

Longitud de la barra:



8.

Longitud de la barra:



9.

Longitud de la barra:



10.

Longitud de la barra:



Medir Longitud (A) Respuestas

Nombre: _____ Fecha: _____ Puntuación: _____

Midan la longitud de cada barra **hasta el centímetro más cercano**.

1.



Longitud de la barra:

2.



Longitud de la barra:

3.



Longitud de la barra:

4.



Longitud de la barra:

5.



Longitud de la barra:

6.



Longitud de la barra:

7.



Longitud de la barra:

8.



Longitud de la barra:

9.



Longitud de la barra:

10.



Longitud de la barra:

Medir Longitud (B)

Nombre: _____ Fecha: _____ Puntuación: _____

Midan la longitud de cada barra **hasta el centímetro más cercano**.

1.

Longitud de la barra:



2.

Longitud de la barra:



3.

Longitud de la barra:



4.

Longitud de la barra:



5.

Longitud de la barra:



6.

Longitud de la barra:



7.

Longitud de la barra:



8.

Longitud de la barra:



9.

Longitud de la barra:



10.

Longitud de la barra:



Medir Longitud (B) Respuestas

Nombre: _____ Fecha: _____ Puntuación: _____

Midan la longitud de cada barra **hasta el centímetro más cercano**.

1.



Longitud de la barra:

2.



Longitud de la barra:

3.



Longitud de la barra:

4.



Longitud de la barra:

5.



Longitud de la barra:

6.



Longitud de la barra:

7.



Longitud de la barra:

8.



Longitud de la barra:

9.



Longitud de la barra:

10.



Longitud de la barra:

Medir Longitud (C)

Nombre: _____ Fecha: _____ Puntuación: _____

Midan la longitud de cada barra **hasta el centímetro más cercano**.

1.

Longitud de la barra:



2.

Longitud de la barra:



3.

Longitud de la barra:



4.

Longitud de la barra:



5.

Longitud de la barra:



6.

Longitud de la barra:



7.

Longitud de la barra:



8.

Longitud de la barra:



9.

Longitud de la barra:



10.

Longitud de la barra:



Medir Longitud (C) Respuestas

Nombre: _____ Fecha: _____ Puntuación: _____

Midan la longitud de cada barra **hasta el centímetro más cercano**.

1.

Longitud de la barra:



2.

Longitud de la barra:



3.

Longitud de la barra:



4.

Longitud de la barra:



5.

Longitud de la barra:



6.

Longitud de la barra:



7.

Longitud de la barra:



8.

Longitud de la barra:



9.

Longitud de la barra:



10.

Longitud de la barra:



Medir Longitud (D)

Nombre: _____ Fecha: _____ Puntuación: _____

Midan la longitud de cada barra **hasta el centímetro más cercano**.

1.

Longitud de la barra:



2.

Longitud de la barra:



3.

Longitud de la barra:



4.

Longitud de la barra:



5.

Longitud de la barra:



6.

Longitud de la barra:



7.

Longitud de la barra:



8.

Longitud de la barra:



9.

Longitud de la barra:



10.

Longitud de la barra:



Medir Longitud (D) Respuestas

Nombre: _____ Fecha: _____ Puntuación: _____

Midan la longitud de cada barra **hasta el centímetro más cercano**.

1.

Longitud de la barra:



2.

Longitud de la barra:



3.

Longitud de la barra:



4.

Longitud de la barra:



5.

Longitud de la barra:



6.

Longitud de la barra:



7.

Longitud de la barra:



8.

Longitud de la barra:



9.

Longitud de la barra:



10.

Longitud de la barra:



Medir Longitud (E)

Nombre: _____ Fecha: _____ Puntuación: _____

Midan la longitud de cada barra **hasta el centímetro más cercano**.

1.

Longitud de la barra:



2.

Longitud de la barra:



3.

Longitud de la barra:



4.

Longitud de la barra:



5.

Longitud de la barra:



6.

Longitud de la barra:



7.

Longitud de la barra:



8.

Longitud de la barra:



9.

Longitud de la barra:



10.

Longitud de la barra:



Medir Longitud (E) Respuestas

Nombre: _____ Fecha: _____ Puntuación: _____

Midan la longitud de cada barra **hasta el centímetro más cercano**.

1.

Longitud de la barra:



2.

Longitud de la barra:



3.

Longitud de la barra:



4.

Longitud de la barra:



5.

Longitud de la barra:



6.

Longitud de la barra:



7.

Longitud de la barra:



8.

Longitud de la barra:



9.

Longitud de la barra:



10.

Longitud de la barra:



Medir Longitud (F)

Nombre: _____ Fecha: _____ Puntuación: _____

Midan la longitud de cada barra **hasta el centímetro más cercano**.

1. Longitud de la barra:



2. Longitud de la barra:



3. Longitud de la barra:



4. Longitud de la barra:



5. Longitud de la barra:



6. Longitud de la barra:



7. Longitud de la barra:



8. Longitud de la barra:



9. Longitud de la barra:



10. Longitud de la barra:



Medir Longitud (F) Respuestas

Nombre: _____ Fecha: _____ Puntuación: _____

Midan la longitud de cada barra **hasta el centímetro más cercano**.

1.



Longitud de la barra:

2.



Longitud de la barra:

3.



Longitud de la barra:

4.



Longitud de la barra:

5.



Longitud de la barra:

6.



Longitud de la barra:

7.



Longitud de la barra:

8.



Longitud de la barra:

9.



Longitud de la barra:

10.



Longitud de la barra:

Medir Longitud (G)

Nombre: _____ Fecha: _____ Puntuación: _____

Midan la longitud de cada barra **hasta el centímetro más cercano**.

1.

Longitud de la barra:



2.

Longitud de la barra:



3.

Longitud de la barra:



4.

Longitud de la barra:



5.

Longitud de la barra:



6.

Longitud de la barra:



7.

Longitud de la barra:



8.

Longitud de la barra:



9.

Longitud de la barra:



10.

Longitud de la barra:



Medir Longitud (G) Respuestas

Nombre: _____ Fecha: _____ Puntuación: _____

Midan la longitud de cada barra **hasta el centímetro más cercano**.

1.

Longitud de la barra:



2.

Longitud de la barra:



3.

Longitud de la barra:



4.

Longitud de la barra:




5.

Longitud de la barra:



6.

Longitud de la barra:



7.

Longitud de la barra:



8.

Longitud de la barra:



9.

Longitud de la barra:



10.

Longitud de la barra:



Medir Longitud (H)

Nombre: _____ Fecha: _____ Puntuación: _____

Midan la longitud de cada barra **hasta el centímetro más cercano**.

1.

Longitud de la barra:



2.

Longitud de la barra:



3.

Longitud de la barra:



4.

Longitud de la barra:



5.

Longitud de la barra:



6.

Longitud de la barra:



7.

Longitud de la barra:



8.

Longitud de la barra:



9.

Longitud de la barra:



10.

Longitud de la barra:



Medir Longitud (H) Respuestas

Nombre: _____ Fecha: _____ Puntuación: _____

Midan la longitud de cada barra **hasta el centímetro más cercano**.

1.

Longitud de la barra:



2.

Longitud de la barra:



3.

Longitud de la barra:



4.

Longitud de la barra:



5.

Longitud de la barra:



6.

Longitud de la barra:



7.

Longitud de la barra:



8.

Longitud de la barra:



9.

Longitud de la barra:



10.

Longitud de la barra:



Medir Longitud (I)

Nombre: _____ Fecha: _____ Puntuación: _____

Midan la longitud de cada barra **hasta el centímetro más cercano**.


1.

Longitud de la barra:



2.

Longitud de la barra:




3.

Longitud de la barra:



4.

Longitud de la barra:




5.

Longitud de la barra:



6.

Longitud de la barra:




7.

Longitud de la barra:




8.

Longitud de la barra:



9.

Longitud de la barra:



10.

Longitud de la barra:



Medir Longitud (I) Respuestas


Nombre: _____ Fecha: _____ Puntuación: _____

Midan la longitud de cada barra **hasta el centímetro más cercano**.

1. Longitud de la barra:



2. Longitud de la barra:



3. Longitud de la barra:




4. Longitud de la barra:




5. Longitud de la barra:




6. Longitud de la barra:




7. Longitud de la barra:



8. Longitud de la barra:



9. Longitud de la barra:



10. Longitud de la barra:



Medir Longitud (J)

Nombre: _____ Fecha: _____ Puntuación: _____

Midan la longitud de cada barra **hasta el centímetro más cercano**.

1.

Longitud de la barra:



2.

Longitud de la barra:



3.

Longitud de la barra:



4.

Longitud de la barra:



5.

Longitud de la barra:



6.

Longitud de la barra:



7.

Longitud de la barra:



8.

Longitud de la barra:



9.

Longitud de la barra:



10.

Longitud de la barra:



Medir Longitud (J) Respuestas

Nombre: _____ Fecha: _____ Puntuación: _____

Midan la longitud de cada barra **hasta el centímetro más cercano**.

1.

Longitud de la barra:



2.

Longitud de la barra:



3.

Longitud de la barra:



4.

Longitud de la barra:



5.

Longitud de la barra:



6.

Longitud de la barra:



7.

Longitud de la barra:



8.

Longitud de la barra:



9.

Longitud de la barra:



10.

Longitud de la barra:

