


Medir Longitud (I)

Nombre: _____ Fecha: _____ Puntuación: _____

Midan la longitud de cada barra **hasta la media pulgada más cercana.**

1.

Longitud de la barra:



2.

Longitud de la barra:




3.

Longitud de la barra:



4.

Longitud de la barra:



5.

Longitud de la barra:



6.

Longitud de la barra:



7.

Longitud de la barra:




8.

Longitud de la barra:



9.

Longitud de la barra:



10.

Longitud de la barra:




Medir Longitud (I) Respuestas

Nombre: _____ Fecha: _____ Puntuación: _____

Midan la longitud de cada barra **hasta la media pulgada más cercana.**


1.

Longitud de la barra:




2.

Longitud de la barra:



3.

Longitud de la barra:



4.

Longitud de la barra:



5.

Longitud de la barra:




6.

Longitud de la barra:



7.

Longitud de la barra:



8.

Longitud de la barra:



9.

Longitud de la barra:



10.

Longitud de la barra:

