

Medir Longitud (A)

Nombre: _____ Fecha: _____ Puntuación: _____

Midan la longitud de cada barra **hasta el dieciseisavo de pulgada más cercano.**

1. Longitud de la barra:



2. Longitud de la barra:



3. Longitud de la barra:



4. Longitud de la barra:



5. Longitud de la barra:



6. Longitud de la barra:



7. Longitud de la barra:



8. Longitud de la barra:



9. Longitud de la barra:



10. Longitud de la barra:



Medir Longitud (A) Respuestas

Nombre: _____ Fecha: _____ Puntuación: _____

Midan la longitud de cada barra **hasta el dieciseisavo de pulgada más cercano.**

1. Longitud de la barra:



2. Longitud de la barra:



3. Longitud de la barra:



4. Longitud de la barra:



5. Longitud de la barra:



6. Longitud de la barra:



7. Longitud de la barra:



8. Longitud de la barra:



9. Longitud de la barra:



10. Longitud de la barra:



Medir Longitud (B)

Nombre: _____ Fecha: _____ Puntuación: _____

Midan la longitud de cada barra **hasta el dieciseisavo de pulgada más cercano.**

1. Longitud de la barra:



2. Longitud de la barra:



3. Longitud de la barra:



4. Longitud de la barra:



5. Longitud de la barra:



6. Longitud de la barra:



7. Longitud de la barra:



8. Longitud de la barra:



9. Longitud de la barra:



10. Longitud de la barra:



Medir Longitud (B) Respuestas

Nombre: _____ Fecha: _____ Puntuación: _____

Midan la longitud de cada barra **hasta el dieciseisavo de pulgada más cercano.**

1.

Longitud de la barra:

1 1/8 in



2.

Longitud de la barra:

5 3/16 in



3.

Longitud de la barra:

5 3/4 in



4.

Longitud de la barra:

3 7/8 in



5.

Longitud de la barra:

2 5/8 in



6.

Longitud de la barra:

4 in



7.

Longitud de la barra:

4 15/16 in



8.

Longitud de la barra:

2 7/16 in



9.

Longitud de la barra:

2 5/16 in



10.

Longitud de la barra:

1 9/16 in



Medir Longitud (C)

Nombre: _____ Fecha: _____ Puntuación: _____

Midan la longitud de cada barra **hasta el dieciseisavo de pulgada más cercano.**

1. Longitud de la barra:



2. Longitud de la barra:



3. Longitud de la barra:



4. Longitud de la barra:



5. Longitud de la barra:



6. Longitud de la barra:



7. Longitud de la barra:



8. Longitud de la barra:



9. Longitud de la barra:



10. Longitud de la barra:



Medir Longitud (C) Respuestas

Nombre: _____ Fecha: _____ Puntuación: _____

Midan la longitud de cada barra **hasta el dieciseisavo de pulgada más cercano.**

1. Longitud de la barra:



2. Longitud de la barra:



3. Longitud de la barra:



4. Longitud de la barra:



5. Longitud de la barra:



6. Longitud de la barra:



7. Longitud de la barra:



8. Longitud de la barra:



9. Longitud de la barra:



10. Longitud de la barra:



Medir Longitud (D)

Nombre: _____ Fecha: _____ Puntuación: _____

Midan la longitud de cada barra **hasta el dieciseisavo de pulgada más cercano.**

1. Longitud de la barra:



2. Longitud de la barra:



3. Longitud de la barra:



4. Longitud de la barra:



5. Longitud de la barra:



6. Longitud de la barra:



7. Longitud de la barra:



8. Longitud de la barra:



9. Longitud de la barra:



10. Longitud de la barra:



Medir Longitud (D) Respuestas

Nombre: _____ Fecha: _____ Puntuación: _____

Midan la longitud de cada barra **hasta el dieciseisavo de pulgada más cercano.**

1. Longitud de la barra:



2. Longitud de la barra:



3. Longitud de la barra:



4. Longitud de la barra:



5. Longitud de la barra:



6. Longitud de la barra:



7. Longitud de la barra:



8. Longitud de la barra:



9. Longitud de la barra:



10. Longitud de la barra:



Medir Longitud (E)

Nombre: _____ Fecha: _____ Puntuación: _____

Midan la longitud de cada barra **hasta el dieciseisavo de pulgada más cercano.**

1.

Longitud de la barra:



2.

Longitud de la barra:



3.

Longitud de la barra:



4.

Longitud de la barra:



5.

Longitud de la barra:



6.

Longitud de la barra:



7.

Longitud de la barra:



8.

Longitud de la barra:



9.

Longitud de la barra:



10.

Longitud de la barra:



Medir Longitud (E) Respuestas

Nombre: _____ Fecha: _____ Puntuación: _____

Midan la longitud de cada barra **hasta el dieciseisavo de pulgada más cercano.**

1.

Longitud de la barra:

1 1/4 in



2.

Longitud de la barra:

6 15/16 in



3.

Longitud de la barra:

2 3/16 in



4.

Longitud de la barra:

4 13/16 in



5.

Longitud de la barra:

2 1/2 in



6.

Longitud de la barra:

2 11/16 in



7.

Longitud de la barra:

1 3/4 in



8.

Longitud de la barra:

6 1/16 in



9.

Longitud de la barra:

1 in



10.

Longitud de la barra:

2 3/8 in



Medir Longitud (F)

Nombre: _____ Fecha: _____ Puntuación: _____

Midan la longitud de cada barra **hasta el dieciseisavo de pulgada más cercano.**

1. Longitud de la barra:



2. Longitud de la barra:



3. Longitud de la barra:



4. Longitud de la barra:



5. Longitud de la barra:



6. Longitud de la barra:



7. Longitud de la barra:



8. Longitud de la barra:



9. Longitud de la barra:



10. Longitud de la barra:



Medir Longitud (F) Respuestas

Nombre: _____ Fecha: _____ Puntuación: _____

Midan la longitud de cada barra **hasta el dieciseisavo de pulgada más cercano.**

1. Longitud de la barra:



2. Longitud de la barra:



3. Longitud de la barra:



4. Longitud de la barra:



5. Longitud de la barra:



6. Longitud de la barra:



7. Longitud de la barra:



8. Longitud de la barra:



9. Longitud de la barra:



10. Longitud de la barra:



Medir Longitud (G)

Nombre: _____ Fecha: _____ Puntuación: _____

Midan la longitud de cada barra **hasta el dieciseisavo de pulgada más cercano.**

1. Longitud de la barra:



2. Longitud de la barra:



3. Longitud de la barra:



4. Longitud de la barra:



5. Longitud de la barra:



6. Longitud de la barra:



7. Longitud de la barra:



8. Longitud de la barra:



9. Longitud de la barra:



10. Longitud de la barra:



Medir Longitud (G) Respuestas

Nombre: _____ Fecha: _____ Puntuación: _____

Midan la longitud de cada barra **hasta el dieciseisavo de pulgada más cercano.**

1. Longitud de la barra:



2. Longitud de la barra:



3. Longitud de la barra:



4. Longitud de la barra:



5. Longitud de la barra:



6. Longitud de la barra:



7. Longitud de la barra:



8. Longitud de la barra:



9. Longitud de la barra:



10. Longitud de la barra:



Medir Longitud (H)

Nombre: _____ Fecha: _____ Puntuación: _____

Midan la longitud de cada barra **hasta el dieciseisavo de pulgada más cercano.**

1. Longitud de la barra:



2. Longitud de la barra:



3. Longitud de la barra:



4. Longitud de la barra:



5. Longitud de la barra:



6. Longitud de la barra:



7. Longitud de la barra:



8. Longitud de la barra:



9. Longitud de la barra:



10. Longitud de la barra:



Medir Longitud (H) Respuestas

Nombre: _____ Fecha: _____ Puntuación: _____

Midan la longitud de cada barra **hasta el dieciseisavo de pulgada más cercano.**

1.

Longitud de la barra:

$2 \frac{3}{16}$ in



2.

Longitud de la barra:

$4 \frac{3}{4}$ in



3.

Longitud de la barra:

$3 \frac{1}{16}$ in



4.

Longitud de la barra:

6 in



5.

Longitud de la barra:

$5 \frac{7}{16}$ in



6.

Longitud de la barra:

$4 \frac{5}{16}$ in



7.

Longitud de la barra:

$3 \frac{1}{4}$ in



8.

Longitud de la barra:

$4 \frac{1}{2}$ in



9.

Longitud de la barra:

$2 \frac{3}{8}$ in



10.

Longitud de la barra:

$2 \frac{11}{16}$ in



Medir Longitud (I)


Nombre: _____ Fecha: _____ Puntuación: _____

Midan la longitud de cada barra **hasta el dieciseisavo de pulgada más cercano.**


1. Longitud de la barra:




2. Longitud de la barra:



3. Longitud de la barra:




4. Longitud de la barra:



5. Longitud de la barra:



6. Longitud de la barra:




7. Longitud de la barra:




8. Longitud de la barra:



9. Longitud de la barra:



10. Longitud de la barra:



Medir Longitud (I) Respuestas


Nombre: _____ Fecha: _____ Puntuación: _____

Midan la longitud de cada barra **hasta el dieciseisavo de pulgada más cercano.**

1.

Longitud de la barra:

$2 \frac{15}{16}$ in



2.

Longitud de la barra:

$4 \frac{3}{4}$ in



3.

Longitud de la barra:


$3 \frac{5}{8}$ in



4.

Longitud de la barra:


$6 \frac{1}{4}$ in



5.

Longitud de la barra:


6 in



6.

Longitud de la barra:


$2 \frac{3}{8}$ in



7.

Longitud de la barra:

$4 \frac{3}{16}$ in



8.

Longitud de la barra:

$2 \frac{1}{8}$ in



9.

Longitud de la barra:


$3 \frac{1}{16}$ in



10.

Longitud de la barra:

$2 \frac{7}{16}$ in



Medir Longitud (J)

Nombre: _____ Fecha: _____ Puntuación: _____

Midan la longitud de cada barra **hasta el dieciseisavo de pulgada más cercano.**

1. Longitud de la barra:



2. Longitud de la barra:



3. Longitud de la barra:



4. Longitud de la barra:



5. Longitud de la barra:



6. Longitud de la barra:



7. Longitud de la barra:



8. Longitud de la barra:



9. Longitud de la barra:



10. Longitud de la barra:



Medir Longitud (J) Respuestas

Nombre: _____ Fecha: _____ Puntuación: _____

Midan la longitud de cada barra **hasta el dieciseisavo de pulgada más cercano.**

1. Longitud de la barra:


2. Longitud de la barra:


3. Longitud de la barra:


4. Longitud de la barra:


5. Longitud de la barra:


6. Longitud de la barra:


7. Longitud de la barra:


8. Longitud de la barra:


9. Longitud de la barra:


10. Longitud de la barra:
