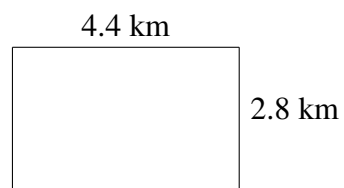
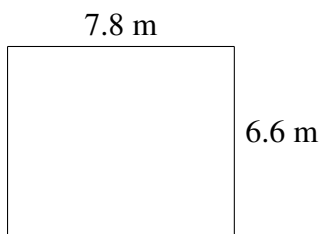

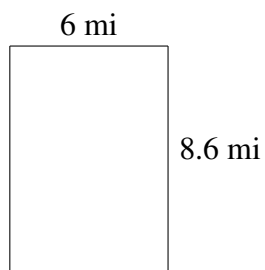
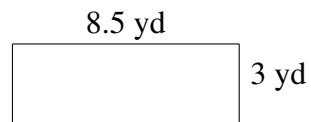



Área y Perímetro de Rectángulos (A)

Halle el área y el perímetro de cada rectángulo.



Área y Perímetro de Rectángulos (A) Respuestas

Halle el área y el perímetro de cada rectángulo.

