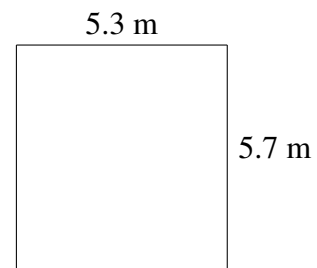
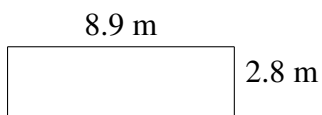
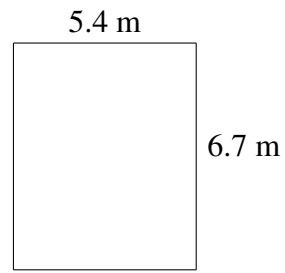
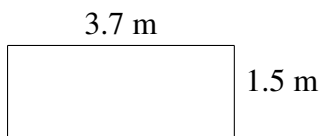
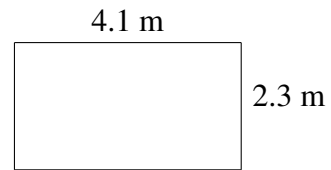
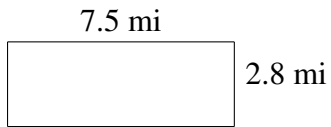


## Área y Perímetro de Rectángulos (D)

Halle el área y el perímetro de cada rectángulo.



# Área y Perímetro de Rectángulos (D) Respuestas

Halle el área y el perímetro de cada rectángulo.

