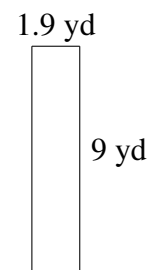
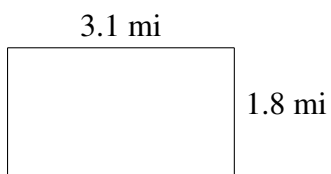
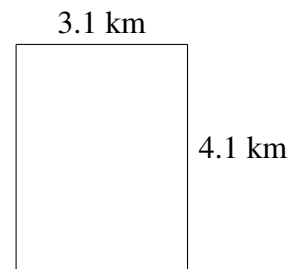
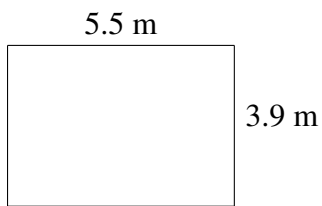
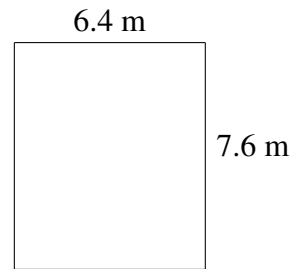
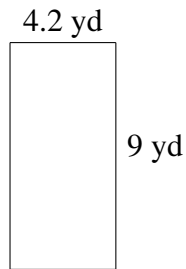


Área y Perímetro de Rectángulos (F)

Halle el área y el perímetro de cada rectángulo.



Área y Perímetro de Rectángulos (F) Respuestas

Halle el área y el perímetro de cada rectángulo.

