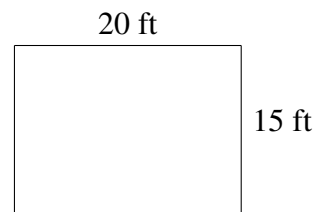
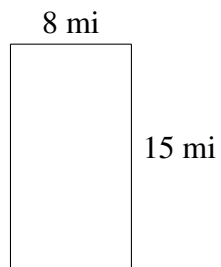
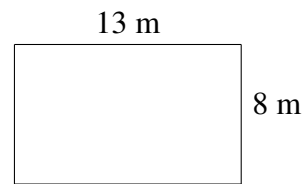
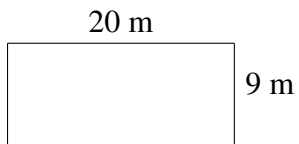
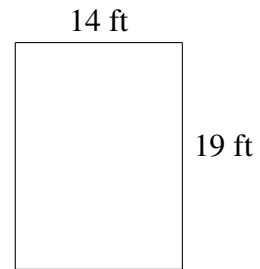



Área y Perímetro de Rectángulos (E)

Halle el área y el perímetro de cada rectángulo.



Área y Perímetro de Rectángulos (E) Respuestas

Halle el área y el perímetro de cada rectángulo.

