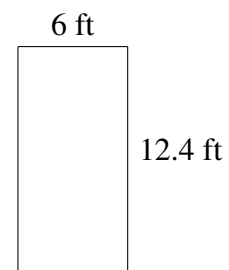
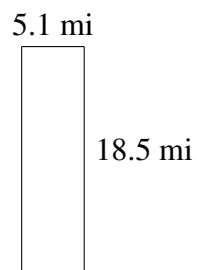
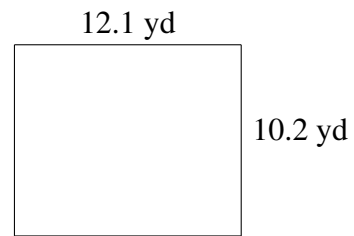
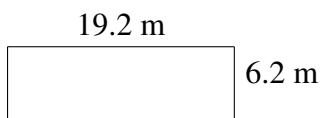
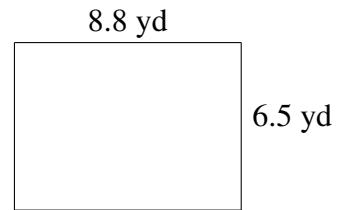
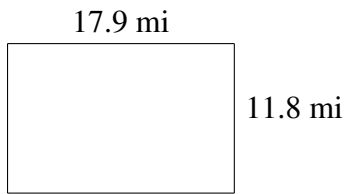


## Área y Perímetro de Rectángulos (F)

Halle el área y el perímetro de cada rectángulo.



# Área y Perímetro de Rectángulos (F) Respuestas

Halle el área y el perímetro de cada rectángulo.

