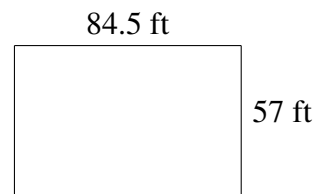
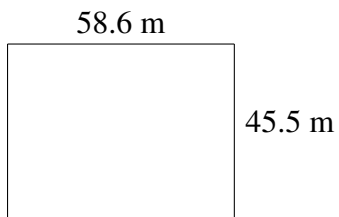
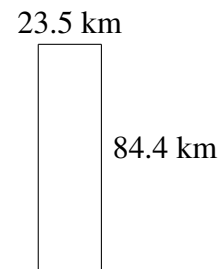
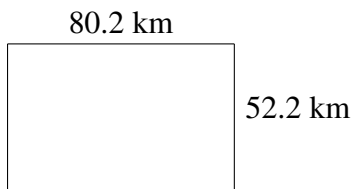
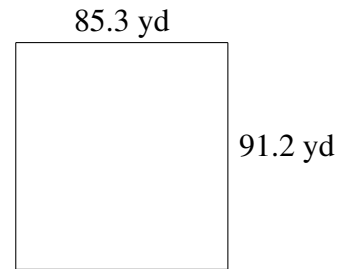



Área y Perímetro de Rectángulos (C)

Halle el área y el perímetro de cada rectángulo.



Área y Perímetro de Rectángulos (C) Respuestas

Halle el área y el perímetro de cada rectángulo.

