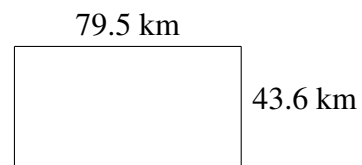
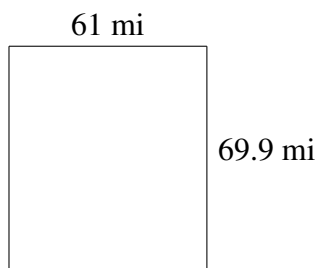
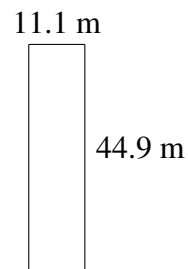
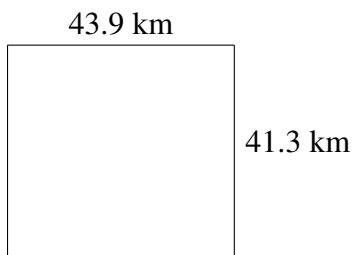
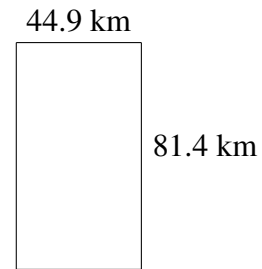
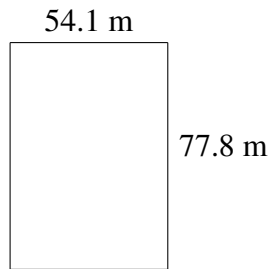


# Área y Perímetro de Rectángulos (H)

Halle el área y el perímetro de cada rectángulo.



# Área y Perímetro de Rectángulos (H) Respuestas

Halle el área y el perímetro de cada rectángulo.

