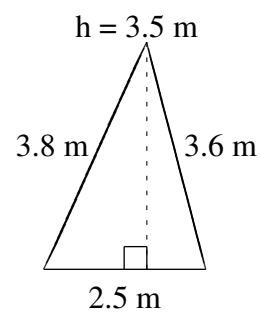
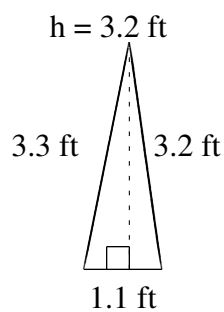
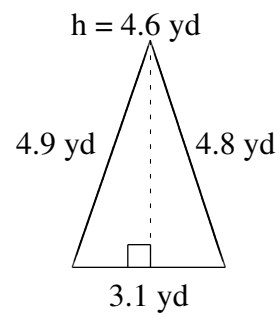
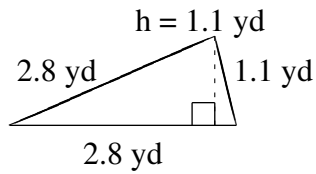
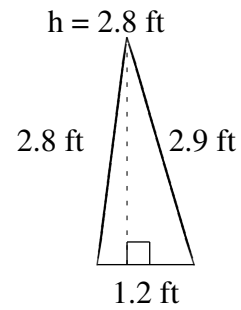
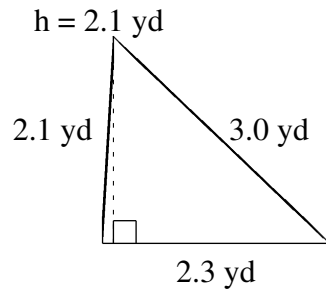


Área y Perímetro de Triángulos (B)

Halle el área y el perímetro de cada triángulo.



Área y Perímetro de Triángulos (B) Respuestas

Halle el área y el perímetro de cada triángulo.

