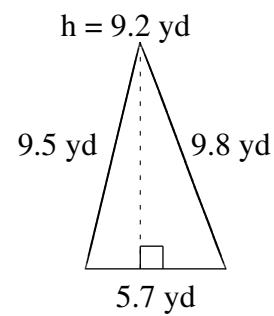
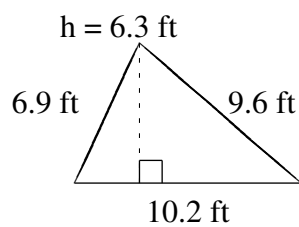
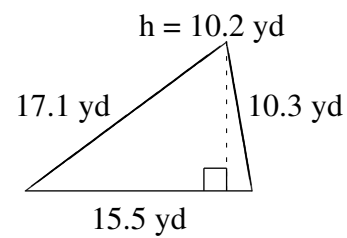
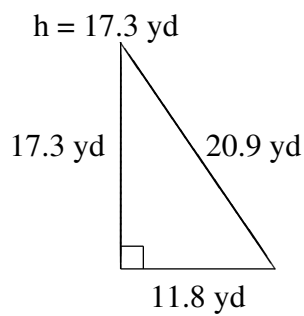
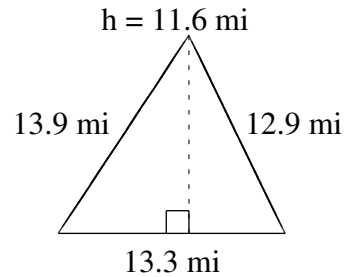
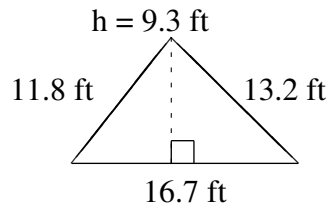


# Área y Perímetro de Triángulos (E)

Halle el área y el perímetro de cada triángulo.



# Área y Perímetro de Triángulos (E) Respuestas

Halle el área y el perímetro de cada triángulo.

