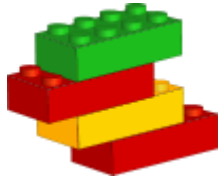


# PROGRESIONES DE LOS ÉLFOS (I)


Los elfos de Santa hacen el mismo juguete la misma cantidad de veces al día. Ellos llevan la cuenta de cuántos han hecho. Continúa cada progresión para ver los totales de los próximos tres días.



21, 28, 35, 42, \_\_\_\_\_, \_\_\_\_\_, \_\_\_\_\_.  
Cantidad de Juguetes al Día: \_\_\_\_\_



73, 82, 91, 100, \_\_\_\_\_, \_\_\_\_\_, \_\_\_\_\_.  
Cantidad de Juguetes al Día: \_\_\_\_\_



7, 13, 19, 25, \_\_\_\_\_, \_\_\_\_\_, \_\_\_\_\_.  
Cantidad de Juguetes al Día: \_\_\_\_\_

26, 27, 28, 29, \_\_\_\_\_, \_\_\_\_\_, \_\_\_\_\_.  
Cantidad de Juguetes al Día: \_\_\_\_\_

65, 68, 71, 74, \_\_\_\_\_, \_\_\_\_\_, \_\_\_\_\_.  
Cantidad de Juguetes al Día: \_\_\_\_\_

13, 16, 19, 22, \_\_\_\_\_, \_\_\_\_\_, \_\_\_\_\_.  
Cantidad de Juguetes al Día: \_\_\_\_\_



10, 11, 12, 13, \_\_\_\_\_, \_\_\_\_\_, \_\_\_\_\_.  
Cantidad de Juguetes al Día: \_\_\_\_\_



# PROGRESIONES DE LOS ÉLFOS (I)

## RESPUESTAS

Los elfos de Santa hacen el mismo juguete la misma cantidad de veces al día. Ellos llevan la cuenta de cuántos han hecho. Continúa cada progresión para ver los totales de los próximos tres días.



21, 28, 35, 42,

Number of toys per day:

49, 56, 63

7



73, 82, 91, 100,

Number of toys per day:

109, 118, 127


9

7, 13, 19, 25,

Number of toys per day:

31, 37, 43

6



26, 27, 28, 29,

Number of toys per day:

30, 31, 32

1

65, 68, 71, 74,

Number of toys per day:

77, 80, 83

3

13, 16, 19, 22,

Number of toys per day:

25, 28, 31

3



10, 11, 12, 13,

Number of toys per day:

14, 15, 16

1

