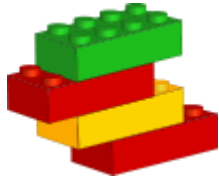


PROGRESIONES DE LOS ÉLFOS (A)


Los elfos de Santa hacen el mismo juguete la misma cantidad de veces al día. Ellos llevan la cuenta de cuántos han hecho. Continúa cada progresión para ver los totales de los próximos tres días.



37, 44, 51, 58, _____, _____, _____.
Cantidad de Juguetes al Día: _____



36, 43, 50, 57, _____, _____, _____.
Cantidad de Juguetes al Día: _____



1, 4, 7, 10, _____, _____, _____.
Cantidad de Juguetes al Día: _____

56, 61, 66, 71, _____, _____, _____.
Cantidad de Juguetes al Día: _____

16, 19, 22, 25, _____, _____, _____.
Cantidad de Juguetes al Día: _____

13, 17, 21, 25, _____, _____, _____.
Cantidad de Juguetes al Día: _____



54, 59, 64, 69, _____, _____, _____.
Cantidad de Juguetes al Día: _____



PROGRESIONES DE LOS ÉLFOS (A)

RESPUESTAS

Los elfos de Santa hacen el mismo juguete la misma cantidad de veces al día. Ellos llevan la cuenta de cuántos han hecho. Continúa cada progresión para ver los totales de los próximos tres días.



37, 44, 51, 58,

Number of toys per day:

65, 72, 79

7



36, 43, 50, 57,

Number of toys per day:

64, 71, 78


7

1, 4, 7, 10,

Number of toys per day:

13, 16, 19

3



56, 61, 66, 71,

Number of toys per day:

76, 81, 86

5

16, 19, 22, 25,

Number of toys per day:

28, 31, 34

3

13, 17, 21, 25,

Number of toys per day:

29, 33, 37

4



54, 59, 64, 69,

Number of toys per day:

74, 79, 84

5

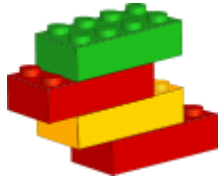


PROGRESIONES DE LOS ÉLFOS (B)


Los elfos de Santa hacen el mismo juguete la misma cantidad de veces al día. Ellos llevan la cuenta de cuántos han hecho. Continúa cada progresión para ver los totales de los próximos tres días.



41, 48, 55, 62, _____, _____, _____.
Cantidad de Juguetes al Día: _____



37, 41, 45, 49, _____, _____, _____.
Cantidad de Juguetes al Día: _____



39, 43, 47, 51, _____, _____, _____.
Cantidad de Juguetes al Día: _____

18, 20, 22, 24, _____, _____, _____.
Cantidad de Juguetes al Día: _____

75, 82, 89, 96, _____, _____, _____.
Cantidad de Juguetes al Día: _____

23, 27, 31, 35, _____, _____, _____.
Cantidad de Juguetes al Día: _____



33, 41, 49, 57, _____, _____, _____.
Cantidad de Juguetes al Día: _____



PROGRESIONES DE LOS ÉLFOS (B)

RESPUESTAS

Los elfos de Santa hacen el mismo juguete la misma cantidad de veces al día. Ellos llevan la cuenta de cuántos han hecho. Continúa cada progresión para ver los totales de los próximos tres días.



41, 48, 55, 62,
Number of toys per day:

69, 76, 83




37, 41, 45, 49,
Number of toys per day:

53, 57, 61

39, 43, 47, 51,
Number of toys per day:

55, 59, 63



18, 20, 22, 24,
Number of toys per day:

26, 28, 30

75, 82, 89, 96,
Number of toys per day:

103, 110, 117

23, 27, 31, 35,
Number of toys per day:

39, 43, 47



33, 41, 49, 57,
Number of toys per day:

65, 73, 81



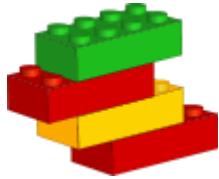
PROGRESIONES DE LOS ÉLFOS (C)

Los elfos de Santa hacen el mismo juguete la misma cantidad de veces al día. Ellos llevan la cuenta de cuántos han hecho. Continúa cada progresión para ver los totales de los próximos tres días.




73, 82, 91, 100, _____, _____, _____.

Cantidad de Juguetes al Día: _____



48, 52, 56, 60, _____, _____, _____.

Cantidad de Juguetes al Día: _____



10, 13, 16, 19, _____, _____, _____.

Cantidad de Juguetes al Día: _____

22, 28, 34, 40, _____, _____, _____.

Cantidad de Juguetes al Día: _____

7, 11, 15, 19, _____, _____, _____.

Cantidad de Juguetes al Día: _____

60, 66, 72, 78, _____, _____, _____.

Cantidad de Juguetes al Día: _____



16, 22, 28, 34, _____, _____, _____.

Cantidad de Juguetes al Día: _____



PROGRESIONES DE LOS ÉLFOS (C)

RESPUESTAS

Los elfos de Santa hacen el mismo juguete la misma cantidad de veces al día. Ellos llevan la cuenta de cuántos han hecho. Continúa cada progresión para ver los totales de los próximos tres días.



73, 82, 91, 100,
Number of toys per day:

109, 118, 127




48, 52, 56, 60,
Number of toys per day:

64, 68, 72

10, 13, 16, 19,
Number of toys per day:

22, 25, 28



22, 28, 34, 40,
Number of toys per day:

46, 52, 58

7, 11, 15, 19,
Number of toys per day:

23, 27, 31

60, 66, 72, 78,
Number of toys per day:

84, 90, 96



16, 22, 28, 34,
Number of toys per day:

40, 46, 52

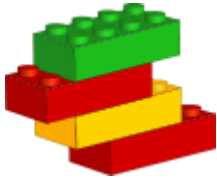


PROGRESIONES DE LOS ÉLFOS (1)


Los elfos de Santa hacen el mismo juguete la misma cantidad de veces al día. Ellos llevan la cuenta de cuántos han hecho. Continúa cada progresión para ver los totales de los próximos tres días.



8, 11, 14, 17, _____, _____, _____.
Cantidad de Juguetes al Día: _____



3, 8, 13, 18, _____, _____, _____.
Cantidad de Juguetes al Día: _____



2, 5, 8, 11, _____, _____, _____.
Cantidad de Juguetes al Día: _____

32, 36, 40, 44, _____, _____, _____.
Cantidad de Juguetes al Día: _____

37, 46, 55, 64, _____, _____, _____.
Cantidad de Juguetes al Día: _____

8, 17, 26, 35, _____, _____, _____.
Cantidad de Juguetes al Día: _____



7, 12, 17, 22, _____, _____, _____.
Cantidad de Juguetes al Día: _____



PROGRESIONES DE LOS ÉLFOS (10)

RESPUESTAS


Los elfos de Santa hacen el mismo juguete la misma cantidad de veces al día. Ellos llevan la cuenta de cuántos han hecho. Continúa cada progresión para ver los totales de los próximos tres días.



8, 11, 14, 17,
Number of toys per day:



3, 8, 13, 18,
Number of toys per day:



2, 5, 8, 11,
Number of toys per day:

32, 36, 40, 44,
Number of toys per day:

37, 46, 55, 64,
Number of toys per day:

8, 17, 26, 35,
Number of toys per day:



7, 12, 17, 22,
Number of toys per day:

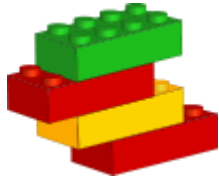


PROGRESIONES DE LOS ÉLFOS (E)


Los elfos de Santa hacen el mismo juguete la misma cantidad de veces al día. Ellos llevan la cuenta de cuántos han hecho. Continúa cada progresión para ver los totales de los próximos tres días.



20, 22, 24, 26, _____, _____, _____.
Cantidad de Juguetes al Día: _____



28, 31, 34, 37, _____, _____, _____.
Cantidad de Juguetes al Día: _____



48, 49, 50, 51, _____, _____, _____.
Cantidad de Juguetes al Día: _____

66, 69, 72, 75, _____, _____, _____.
Cantidad de Juguetes al Día: _____

3, 10, 17, 24, _____, _____, _____.
Cantidad de Juguetes al Día: _____

6, 12, 18, 24, _____, _____, _____.
Cantidad de Juguetes al Día: _____



12, 13, 14, 15, _____, _____, _____.
Cantidad de Juguetes al Día: _____



PROGRESIONES DE LOS ÉLFOS (E) RESPUESTAS


Los elfos de Santa hacen el mismo juguete la misma cantidad de veces al día. Ellos llevan la cuenta de cuántos han hecho. Continúa cada progresión para ver los totales de los próximos tres días.



20, 22, 24, 26,
Number of toys per day:



28, 31, 34, 37,
Number of toys per day:



48, 49, 50, 51,
Number of toys per day:

66, 69, 72, 75,
Number of toys per day:

3, 10, 17, 24,
Number of toys per day:

6, 12, 18, 24,
Number of toys per day:



12, 13, 14, 15,
Number of toys per day:

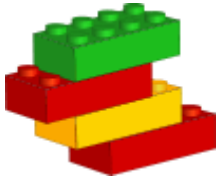


PROGRESIONES DE LOS ÉLFOS (F)


Los elfos de Santa hacen el mismo juguete la misma cantidad de veces al día. Ellos llevan la cuenta de cuántos han hecho. Continúa cada progresión para ver los totales de los próximos tres días.



69, 72, 75, 78, _____, _____, _____.
Cantidad de Juguetes al Día: _____



42, 46, 50, 54, _____, _____, _____.
Cantidad de Juguetes al Día: _____



6, 8, 10, 12, _____, _____, _____.
Cantidad de Juguetes al Día: _____

63, 67, 71, 75, _____, _____, _____.
Cantidad de Juguetes al Día: _____

62, 65, 68, 71, _____, _____, _____.
Cantidad de Juguetes al Día: _____

14, 21, 28, 35, _____, _____, _____.
Cantidad de Juguetes al Día: _____



34, 39, 44, 49, _____, _____, _____.
Cantidad de Juguetes al Día: _____



PROGRESIONES DE LOS ÉLFOS (F) RESPUESTAS

Los elfos de Santa hacen el mismo juguete la misma cantidad de veces al día. Ellos llevan la cuenta de cuántos han hecho. Continúa cada progresión para ver los totales de los próximos tres días.



69, 72, 75, 78,

Number of toys per day:

81, 84, 87

3



42, 46, 50, 54,

Number of toys per day:

58, 62, 66


4

6, 8, 10, 12,

Number of toys per day:

14, 16, 18

2



63, 67, 71, 75,

Number of toys per day:

79, 83, 87

4

62, 65, 68, 71,

Number of toys per day:

74, 77, 80

3

14, 21, 28, 35,

Number of toys per day:

42, 49, 56

7



34, 39, 44, 49,

Number of toys per day:

54, 59, 64

5

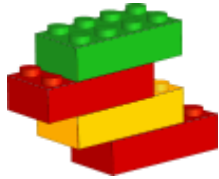


PROGRESIONES DE LOS ELFOS (G)


Los elfos de Santa hacen el mismo juguete la misma cantidad de veces al día. Ellos llevan la cuenta de cuántos han hecho. Continúa cada progresión para ver los totales de los próximos tres días.



8, 9, 10, 11, _____, _____, _____.
Cantidad de Juguetes al Día: _____



55, 58, 61, 64, _____, _____, _____.
Cantidad de Juguetes al Día: _____



42, 47, 52, 57, _____, _____, _____.
Cantidad de Juguetes al Día: _____

15, 23, 31, 39, _____, _____, _____.
Cantidad de Juguetes al Día: _____

42, 45, 48, 51, _____, _____, _____.
Cantidad de Juguetes al Día: _____

41, 44, 47, 50, _____, _____, _____.
Cantidad de Juguetes al Día: _____



17, 19, 21, 23, _____, _____, _____.
Cantidad de Juguetes al Día: _____



PROGRESIONES DE LOS ÉLFOS (G)

RESPUESTAS


Los elfos de Santa hacen el mismo juguete la misma cantidad de veces al día. Ellos llevan la cuenta de cuántos han hecho. Continúa cada progresión para ver los totales de los próximos tres días.



8, 9, 10, 11,
Number of toys per day:



55, 58, 61, 64,
Number of toys per day:



42, 47, 52, 57,
Number of toys per day:

15, 23, 31, 39,
Number of toys per day:

42, 45, 48, 51,
Number of toys per day:

41, 44, 47, 50,
Number of toys per day:



17, 19, 21, 23,
Number of toys per day:

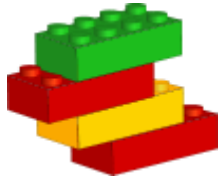


PROGRESIONES DE LOS ÉLFOS (H)


Los elfos de Santa hacen el mismo juguete la misma cantidad de veces al día. Ellos llevan la cuenta de cuántos han hecho. Continúa cada progresión para ver los totales de los próximos tres días.



19, 22, 25, 28, _____, _____, _____.
Cantidad de Juguetes al Día: _____



25, 28, 31, 34, _____, _____, _____.
Cantidad de Juguetes al Día: _____



23, 31, 39, 47, _____, _____, _____.
Cantidad de Juguetes al Día: _____

30, 34, 38, 42, _____, _____, _____.
Cantidad de Juguetes al Día: _____

41, 45, 49, 53, _____, _____, _____.
Cantidad de Juguetes al Día: _____

7, 16, 25, 34, _____, _____, _____.
Cantidad de Juguetes al Día: _____



29, 38, 47, 56, _____, _____, _____.
Cantidad de Juguetes al Día: _____



PROGRESIONES DE LOS ÉLFOS (H)

RESPUESTAS

Los elfos de Santa hacen el mismo juguete la misma cantidad de veces al día. Ellos llevan la cuenta de cuántos han hecho. Continúa cada progresión para ver los totales de los próximos tres días.



19, 22, 25, 28,

Number of toys per day:

31, 34, 37

3



25, 28, 31, 34,

Number of toys per day:

37, 40, 43


3

23, 31, 39, 47,

Number of toys per day:

55, 63, 71

8



30, 34, 38, 42,

Number of toys per day:

46, 50, 54

4

41, 45, 49, 53,

Number of toys per day:

57, 61, 65

4

7, 16, 25, 34,

Number of toys per day:

43, 52, 61

9



29, 38, 47, 56,

Number of toys per day:

65, 74, 83

9

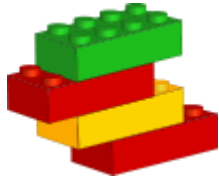


PROGRESIONES DE LOS ÉLFOS (I)


Los elfos de Santa hacen el mismo juguete la misma cantidad de veces al día. Ellos llevan la cuenta de cuántos han hecho. Continúa cada progresión para ver los totales de los próximos tres días.



21, 28, 35, 42, _____, _____, _____.
Cantidad de Juguetes al Día: _____



73, 82, 91, 100, _____, _____, _____.
Cantidad de Juguetes al Día: _____



7, 13, 19, 25, _____, _____, _____.
Cantidad de Juguetes al Día: _____

26, 27, 28, 29, _____, _____, _____.
Cantidad de Juguetes al Día: _____

65, 68, 71, 74, _____, _____, _____.
Cantidad de Juguetes al Día: _____

13, 16, 19, 22, _____, _____, _____.
Cantidad de Juguetes al Día: _____



10, 11, 12, 13, _____, _____, _____.
Cantidad de Juguetes al Día: _____



PROGRESIONES DE LOS ÉLFOS (I)

RESPUESTAS

Los elfos de Santa hacen el mismo juguete la misma cantidad de veces al día. Ellos llevan la cuenta de cuántos han hecho. Continúa cada progresión para ver los totales de los próximos tres días.



21, 28, 35, 42,

Number of toys per day:

49, 56, 63

7



73, 82, 91, 100,

Number of toys per day:

109, 118, 127


9

7, 13, 19, 25,

Number of toys per day:

31, 37, 43

6



26, 27, 28, 29,

Number of toys per day:

30, 31, 32

1

65, 68, 71, 74,

Number of toys per day:

77, 80, 83

3

13, 16, 19, 22,

Number of toys per day:

25, 28, 31

3



10, 11, 12, 13,

Number of toys per day:

14, 15, 16

1

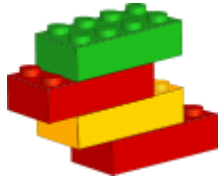


PROGRESIONES DE LOS ELFOS (J)


Los elfos de Santa hacen el mismo juguete la misma cantidad de veces al día. Ellos llevan la cuenta de cuántos han hecho. Continúa cada progresión para ver los totales de los próximos tres días.



29, 35, 41, 47, _____, _____, _____.
Cantidad de Juguetes al Día: _____



38, 47, 56, 65, _____, _____, _____.
Cantidad de Juguetes al Día: _____



42, 48, 54, 60, _____, _____, _____.
Cantidad de Juguetes al Día: _____

9, 11, 13, 15, _____, _____, _____.
Cantidad de Juguetes al Día: _____

23, 25, 27, 29, _____, _____, _____.
Cantidad de Juguetes al Día: _____

21, 28, 35, 42, _____, _____, _____.
Cantidad de Juguetes al Día: _____



27, 30, 33, 36, _____, _____, _____.
Cantidad de Juguetes al Día: _____



PROGRESIONES DE LOS ÉLFOS (J)

RESPUESTAS

Los elfos de Santa hacen el mismo juguete la misma cantidad de veces al día. Ellos llevan la cuenta de cuántos han hecho. Continúa cada progresión para ver los totales de los próximos tres días.



29, 35, 41, 47,

Number of toys per day:

53, 59, 65

6



38, 47, 56, 65,

Number of toys per day:

74, 83, 92


9

42, 48, 54, 60,

Number of toys per day:

66, 72, 78

6



9, 11, 13, 15,

Number of toys per day:

17, 19, 21

2

23, 25, 27, 29,

Number of toys per day:

31, 33, 35

2

21, 28, 35, 42,

Number of toys per day:

49, 56, 63

7



27, 30, 33, 36,

Number of toys per day:

39, 42, 45

3

