


Contar Objetos de Navidad (C)

Nombre: _____


Fecha: _____

Cuenten cuántos objetos hay en cada grupo.

1. Hay _____ árboles de Navidad en el grupo.




2. Hay _____ lazos en el grupo.



3. Hay _____ regalos en el grupo.



4. Hay _____ ornamentos en el grupo.




Contar Objetos de Navidad (C) Respuestas

Nombre: _____


Fecha: _____

Cuenten cuántos objetos hay en cada grupo.

1. Hay 54 árboles de Navidad en el grupo.



2. Hay 10 lazos en el grupo.



3. Hay 47 regalos en el grupo.



4. Hay 4 ornamentos en el grupo.

