


# Contar Objetos de Navidad (E)

Nombre: \_\_\_\_\_

Fecha: \_\_\_\_\_

Cuenten cuántos objetos hay en cada grupo.


1. Hay \_\_\_\_\_ lazos en el grupo.



2. Hay \_\_\_\_\_ regalos en el grupo.



3. Hay \_\_\_\_\_ ornamentos en el grupo.



4. Hay \_\_\_\_\_ árboles de Navidad en el grupo.




# Contar Objetos de Navidad (E) Respuestas

Nombre: \_\_\_\_\_


Fecha: \_\_\_\_\_

Cuenten cuántos objetos hay en cada grupo.


1. Hay 7 lazos en el grupo.



2. Hay 20 regalos en el grupo.



3. Hay 47 ornamentos en el grupo.



4. Hay 3 árboles de Navidad en el grupo.

