

# Contar Objetos de Navidad (6)

Nombre: \_\_\_\_\_

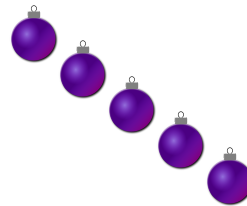
Fecha: \_\_\_\_\_

Cuenten cuántos objetos hay en cada grupo.

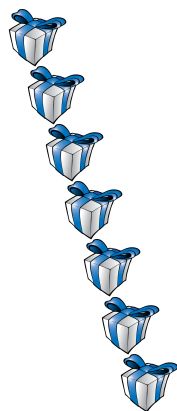
1. Hay \_\_\_\_\_ árboles de Navidad en el grupo.




2. Hay \_\_\_\_\_ ornamentos en el grupo.



3. Hay \_\_\_\_\_ regalos en el grupo.



4. Hay \_\_\_\_\_ lazos en el grupo.



# Contar Objetos de Navidad (G) Respuestas

Nombre: \_\_\_\_\_

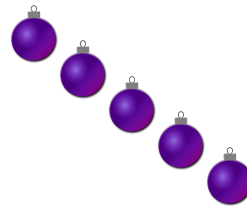
Fecha: \_\_\_\_\_

Cuenten cuántos objetos hay en cada grupo.

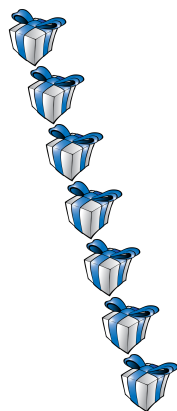
1. Hay 6 árboles de Navidad en el grupo.



2. Hay 5 ornamentos en el grupo.



3. Hay 7 regalos en el grupo.



4. Hay 4 lazos en el grupo.

