

Contar Objetos de Navidad (C)

Nombre: _____


Fecha: _____

Cuenten cuántos objetos hay en cada grupo.


1. Hay _____ ornamentos en el grupo.




2. Hay _____ árboles de Navidad en el grupo.



3. Hay _____ lazos en el grupo.



4. Hay _____ regalos en el grupo.



Contar Objetos de Navidad (C) Respuestas

Nombre: _____


Fecha: _____

Cuenten cuántos objetos hay en cada grupo.


1. Hay 18 ornamentos en el grupo.



2. Hay 40 árboles de Navidad en el grupo.



3. Hay 63 lazos en el grupo.



4. Hay 32 regalos en el grupo.

