

# Contar Objetos de Navidad (D)

Nombre: \_\_\_\_\_


Fecha: \_\_\_\_\_

Cuenten cuántos objetos hay en cada grupo.

1. Hay \_\_\_\_\_ regalos en el grupo.




2. Hay \_\_\_\_\_ lazos en el grupo.



3. Hay \_\_\_\_\_ árboles de Navidad en el grupo.



4. Hay \_\_\_\_\_ ornamentos en el grupo.



# Contar Objetos de Navidad (D) Respuestas

Nombre: \_\_\_\_\_


Fecha: \_\_\_\_\_

Cuenten cuántos objetos hay en cada grupo.

1. Hay 32 regalos en el grupo.



2. Hay 54 lazos en el grupo.



3. Hay 6 árboles de Navidad en el grupo.



4. Hay 21 ornamentos en el grupo.

