

# Contar Objetos de Navidad (E)

Nombre: \_\_\_\_\_


Fecha: \_\_\_\_\_

Cuenten cuántos objetos hay en cada grupo.

1. Hay \_\_\_\_\_ regalos en el grupo.




2. Hay \_\_\_\_\_ ornamentos en el grupo.



3. Hay \_\_\_\_\_ lazos en el grupo.



4. Hay \_\_\_\_\_ árboles de Navidad en el grupo.



# Contar Objetos de Navidad (E) Respuestas

Nombre: \_\_\_\_\_


Fecha: \_\_\_\_\_

Cuenten cuántos objetos hay en cada grupo.

1. Hay 21 regalos en el grupo.



2. Hay 35 ornamentos en el grupo.



3. Hay 18 lazos en el grupo.



4. Hay 32 árboles de Navidad en el grupo.

