


Contar Objetos de Navidad (6)

Nombre: _____


Fecha: _____

Cuenten cuántos objetos hay en cada grupo.

1. Hay _____ árboles de Navidad en el grupo.




2. Hay _____ lazos en el grupo.



3. Hay _____ regalos en el grupo.



4. Hay _____ ornamentos en el grupo.




Contar Objetos de Navidad (G) Respuestas

Nombre: _____


Fecha: _____

Cuenten cuántos objetos hay en cada grupo.


1. Hay 72 árboles de Navidad en el grupo.



2. Hay 8 lazos en el grupo.



3. Hay 42 regalos en el grupo.



4. Hay 63 ornamentos en el grupo.

