

# Contar Objetos de Navidad (A)

Nombre: \_\_\_\_\_


Fecha: \_\_\_\_\_

Cuenten cuántos objetos hay en cada grupo.

1. Hay \_\_\_\_\_ regalos en el grupo.




2. Hay \_\_\_\_\_ ornamentos en el grupo.



3. Hay \_\_\_\_\_ árboles de Navidad en el grupo.



4. Hay \_\_\_\_\_ lazos en el grupo.



# Contar Objetos de Navidad (A) Respuestas

Nombre: \_\_\_\_\_


Fecha: \_\_\_\_\_

Cuenten cuántos objetos hay en cada grupo.

1. Hay 10 regalos en el grupo.




2. Hay 28 ornamentos en el grupo.



3. Hay 10 árboles de Navidad en el grupo.



4. Hay 56 lazos en el grupo.



# Contar Objetos de Navidad (B)

Nombre: \_\_\_\_\_

Fecha: \_\_\_\_\_

Cuenten cuántos objetos hay en cada grupo.


1. Hay \_\_\_\_\_ lazos en el grupo.




2. Hay \_\_\_\_\_ regalos en el grupo.



3. Hay \_\_\_\_\_ árboles de Navidad en el grupo.



4. Hay \_\_\_\_\_ ornamentos en el grupo.



# Contar Objetos de Navidad (B) Respuestas

Nombre: \_\_\_\_\_

Fecha: \_\_\_\_\_

Cuenten cuántos objetos hay en cada grupo.


1. Hay 24 lazos en el grupo.




2. Hay 14 regalos en el grupo.



3. Hay 42 árboles de Navidad en el grupo.



4. Hay 64 ornamentos en el grupo.



# Contar Objetos de Navidad (C)

Nombre: \_\_\_\_\_


Fecha: \_\_\_\_\_

Cuenten cuántos objetos hay en cada grupo.


1. Hay \_\_\_\_\_ ornamentos en el grupo.




2. Hay \_\_\_\_\_ árboles de Navidad en el grupo.



3. Hay \_\_\_\_\_ lazos en el grupo.



4. Hay \_\_\_\_\_ regalos en el grupo.



# Contar Objetos de Navidad (C) Respuestas

Nombre: \_\_\_\_\_


Fecha: \_\_\_\_\_

Cuenten cuántos objetos hay en cada grupo.


1. Hay 18 ornamentos en el grupo.




2. Hay 40 árboles de Navidad en el grupo.



3. Hay 63 lazos en el grupo.



4. Hay 32 regalos en el grupo.



# Contar Objetos de Navidad (D)

Nombre: \_\_\_\_\_


Fecha: \_\_\_\_\_

Cuenten cuántos objetos hay en cada grupo.

1. Hay \_\_\_\_\_ regalos en el grupo.




2. Hay \_\_\_\_\_ lazos en el grupo.



3. Hay \_\_\_\_\_ árboles de Navidad en el grupo.



4. Hay \_\_\_\_\_ ornamentos en el grupo.



# Contar Objetos de Navidad (D) Respuestas

Nombre: \_\_\_\_\_


Fecha: \_\_\_\_\_

Cuenten cuántos objetos hay en cada grupo.

1. Hay 32 regalos en el grupo.




2. Hay 54 lazos en el grupo.



3. Hay 6 árboles de Navidad en el grupo.



4. Hay 21 ornamentos en el grupo.





# Contar Objetos de Navidad (E)

Nombre: \_\_\_\_\_


Fecha: \_\_\_\_\_

Cuenten cuántos objetos hay en cada grupo.

1. Hay \_\_\_\_\_ regalos en el grupo.




2. Hay \_\_\_\_\_ ornamentos en el grupo.



3. Hay \_\_\_\_\_ lazos en el grupo.



4. Hay \_\_\_\_\_ árboles de Navidad en el grupo.



# Contar Objetos de Navidad (E) Respuestas

Nombre: \_\_\_\_\_


Fecha: \_\_\_\_\_

Cuenten cuántos objetos hay en cada grupo.

1. Hay 21 regalos en el grupo.




2. Hay 35 ornamentos en el grupo.



3. Hay 18 lazos en el grupo.



4. Hay 32 árboles de Navidad en el grupo.




# Contar Objetos de Navidad (F)

Nombre: \_\_\_\_\_


Fecha: \_\_\_\_\_

Cuenten cuántos objetos hay en cada grupo.

1. Hay \_\_\_\_\_ lazos en el grupo.



2. Hay \_\_\_\_\_ ornamentos en el grupo.



3. Hay \_\_\_\_\_ árboles de Navidad en el grupo.



4. Hay \_\_\_\_\_ regalos en el grupo.




# Contar Objetos de Navidad (F) Respuestas

Nombre: \_\_\_\_\_


Fecha: \_\_\_\_\_

Cuenten cuántos objetos hay en cada grupo.

1. Hay 32 lazos en el grupo.



2. Hay 35 ornamentos en el grupo.



3. Hay 21 árboles de Navidad en el grupo.



4. Hay 18 regalos en el grupo.



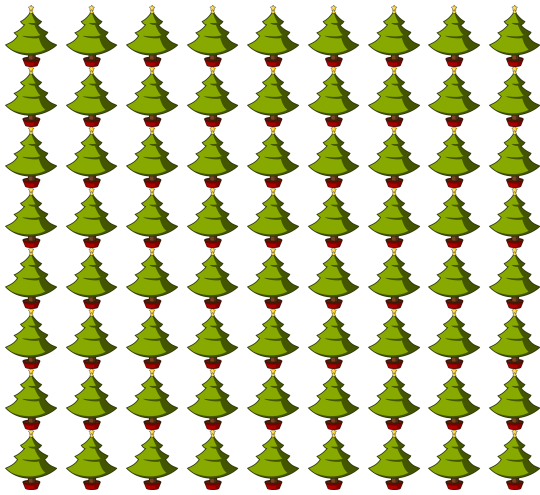
# Contar Objetos de Navidad (6)

Nombre: \_\_\_\_\_


Fecha: \_\_\_\_\_

Cuenten cuántos objetos hay en cada grupo.


1. Hay \_\_\_\_\_ árboles de Navidad en el grupo.




2. Hay \_\_\_\_\_ lazos en el grupo.



3. Hay \_\_\_\_\_ regalos en el grupo.



4. Hay \_\_\_\_\_ ornamentos en el grupo.




# Contar Objetos de Navidad (6) Respuestas

Nombre: \_\_\_\_\_


Fecha: \_\_\_\_\_

Cuenten cuántos objetos hay en cada grupo.


1. Hay 72 árboles de Navidad en el grupo.




2. Hay 8 lazos en el grupo.



3. Hay 42 regalos en el grupo.



4. Hay 63 ornamentos en el grupo.




# Contar Objetos de Navidad (H)

Nombre: \_\_\_\_\_

Fecha: \_\_\_\_\_

Cuenten cuántos objetos hay en cada grupo.

1. Hay \_\_\_\_\_ árboles de Navidad en el grupo.




2. Hay \_\_\_\_\_ regalos en el grupo.



3. Hay \_\_\_\_\_ lazos en el grupo.



4. Hay \_\_\_\_\_ ornamentos en el grupo.




# Contar Objetos de Navidad (H) Respuestas

Nombre: \_\_\_\_\_

Fecha: \_\_\_\_\_

Cuenten cuántos objetos hay en cada grupo.

1. Hay 24 árboles de Navidad en el grupo.




2. Hay 18 regalos en el grupo.



3. Hay 25 lazos en el grupo.



4. Hay 56 ornamentos en el grupo.





# Contar Objetos de Navidad (I)

Nombre: \_\_\_\_\_

Fecha: \_\_\_\_\_

Cuenten cuántos objetos hay en cada grupo.

1. Hay \_\_\_\_\_ árboles de Navidad en el grupo.



2. Hay \_\_\_\_\_ ornamentos en el grupo.



3. Hay \_\_\_\_\_ regalos en el grupo.



4. Hay \_\_\_\_\_ lazos en el grupo.



# Contar Objetos de Navidad (I) Respuestas

Nombre: \_\_\_\_\_

Fecha: \_\_\_\_\_

Cuenten cuántos objetos hay en cada grupo.


1. Hay 18 árboles de Navidad en el grupo.



2. Hay 12 ornamentos en el grupo.



3. Hay 48 regalos en el grupo.



4. Hay 20 lazos en el grupo.



# Contar Objetos de Navidad (J)

Nombre: \_\_\_\_\_


Fecha: \_\_\_\_\_

Cuenten cuántos objetos hay en cada grupo.


1. Hay \_\_\_\_\_ regalos en el grupo.




2. Hay \_\_\_\_\_ ornamentos en el grupo.



3. Hay \_\_\_\_\_ árboles de Navidad en el grupo.



4. Hay \_\_\_\_\_ lazos en el grupo.



# Contar Objetos de Navidad (J) Respuestas

Nombre: \_\_\_\_\_


Fecha: \_\_\_\_\_

Cuenten cuántos objetos hay en cada grupo.


1. Hay 16 regalos en el grupo.



2. Hay 20 ornamentos en el grupo.



3. Hay 28 árboles de Navidad en el grupo.



4. Hay 15 lazos en el grupo.

