



¿QUÉ HAY EN EL REGALO? (1)


¿Qué número hay en cada regalo?

$12 - 9 =$ 

$17 - 8 =$ 

$10 - 2 =$ 

$9 - 1 =$ 

$11 - 9 =$ 


$8 -$  $= 1$

$7 -$  $= 4$


$10 -$  $= 2$


$4 -$  $= 1$


$7 -$  $= 3$


$$  $- 9 = 9$


$$  $- 7 = 1$


$$  $- 3 = 1$


$$  $- 1 = 2$


$$  $- 9 = 4$

$13 - 9 =$ 

$5 - 3 =$ 

$15 - 9 =$ 

$8 - 1 =$ 

$6 - 1 =$ 


$14 -$  $= 9$


$14 -$  $= 6$


$8 -$  $= 3$


$10 -$  $= 3$


$9 -$  $= 8$

$$  $- 5 = 7$

$$  $- 5 = 3$

$$  $- 1 = 5$


$$  $- 1 = 3$

$$  $- 9 = 4$

$9 - 3 =$ 

$13 - 8 =$ 

$4 - 2 =$ 

$5 - 1 =$ 

$13 - 4 =$ 

$7 -$  $= 3$

$15 -$  $= 9$

$11 -$  $= 9$


$13 -$  $= 9$


$13 -$  $= 9$

$$  $- 8 = 8$

$$  $- 7 = 6$

$$  $- 5 = 9$

$$  $- 6 = 5$

$$  $- 3 = 7$

¿QUÉ HAY EN EL REGALO? (D) RESPUESTAS

¿Qué número hay en cada regalo?

12	-	9	=	3	13	-	9	=	4	9	-	3	=	6
17	-	8	=	9	5	-	3	=	2	13	-	8	=	5
10	-	2	=	8	15	-	9	=	6	4	-	2	=	2
9	-	1	=	8	8	-	1	=	7	5	-	1	=	4
11	-	9	=	2	6	-	1	=	5	13	-	4	=	9

8	-	7	=	1	14	-	5	=	9	7	-	4	=	3
7	-	3	=	4	14	-	8	=	6	15	-	6	=	9
10	-	8	=	2	8	-	5	=	3	11	-	2	=	9
4	-	3	=	1	10	-	7	=	3	13	-	4	=	9
7	-	4	=	3	9	-	1	=	8	13	-	4	=	9

18	-	9	=	9	12	-	5	=	7	16	-	8	=	8
8	-	7	=	1	8	-	5	=	3	13	-	7	=	6
4	-	3	=	1	6	-	1	=	5	14	-	5	=	9
3	-	1	=	2	4	-	1	=	3	11	-	6	=	5
13	-	9	=	4	13	-	9	=	4	10	-	3	=	7