



# ¿QUÉ HAY EN EL REGALO? (1)


¿Qué número hay en cada regalo?

$12 - 9 =$  

$17 - 8 =$  

$10 - 2 =$  

$9 - 1 =$  

$11 - 9 =$  


$8 -$    $= 1$

$7 -$    $= 4$


$10 -$    $= 2$


$4 -$    $= 1$


$7 -$    $= 3$


$$    $- 9 = 9$


$$    $- 7 = 1$


$$    $- 3 = 1$


$$    $- 1 = 2$


$$    $- 9 = 4$

$13 - 9 =$  

$5 - 3 =$  

$15 - 9 =$  

$8 - 1 =$  

$6 - 1 =$  


$14 -$    $= 9$


$14 -$    $= 6$


$8 -$    $= 3$


$10 -$    $= 3$


$9 -$    $= 8$

$$    $- 5 = 7$

$$    $- 5 = 3$

$$    $- 1 = 5$


$$    $- 1 = 3$

$$    $- 9 = 4$

$9 - 3 =$  

$13 - 8 =$  

$4 - 2 =$  

$5 - 1 =$  

$13 - 4 =$  

$7 -$    $= 3$

$15 -$    $= 9$

$11 -$    $= 9$


$13 -$    $= 9$


$13 -$    $= 9$

$$    $- 8 = 8$

$$    $- 7 = 6$

$$    $- 5 = 9$

$$    $- 6 = 5$

$$    $- 3 = 7$