

# ¿QUÉ HAY EN EL REGALO? (9)

¿Qué número hay en cada regalo?

$13 - 7 =$  

$9 - 7 =$  

$15 - 7 =$  

$16 - 7 =$  

$17 - 8 =$  

$14 -$    $= 7$

$16 -$    $= 8$

$8 -$    $= 1$


$8 -$    $= 7$

$10 -$    $= 7$

$$    $- 2 = 1$


$$    $- 4 = 7$


$$    $- 6 = 3$

$$    $- 1 = 6$


$$    $- 4 = 8$

$12 - 6 =$  

$8 - 1 =$  

$10 - 1 =$  

$8 - 2 =$  

$13 - 9 =$  

$11 -$    $= 5$


$7 -$    $= 2$


$10 -$    $= 3$

$10 -$    $= 7$


$7 -$    $= 5$

$$    $- 9 = 3$


$$    $- 4 = 4$

$$    $- 9 = 6$


$$    $- 4 = 7$

$$    $- 2 = 5$

$6 - 5 =$  

$9 - 3 =$  

$12 - 4 =$  

$12 - 8 =$  

$4 - 2 =$  

$14 -$    $= 8$


$4 -$    $= 2$

$11 -$    $= 9$


$8 -$    $= 3$


$6 -$    $= 1$

$$    $- 6 = 5$

$$    $- 4 = 4$

$$    $- 4 = 2$

$$    $- 3 = 6$

$$    $- 3 = 1$